


LEMBAR EVALUASI



FUNGSI LINIER

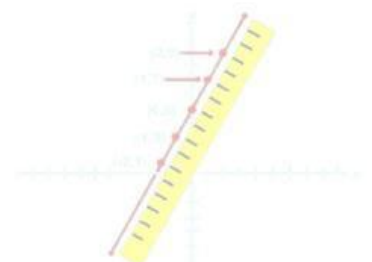


EVALUASI 1



<https://idm.in/1LAfTJi>

Sebidang tanah milik Ibu Tini di daerah Bengkulu mempunyai harga sebesar Rp. 130.000.000. Harga tanah tersebut diperkirakan mengalami kenaikan konstan Rp. 100.000 pertahun dalam kurun waktu 5 tahun. Tentukan persamaan garis harga tanah tersebut dan harga setelah 5 tahun!



Lembar Jawaban

Handwriting practice area with 20 sets of horizontal dotted lines for writing.



Lembar Jawaban



Lembar Jawaban

Handwriting practice area with 20 horizontal dotted lines.

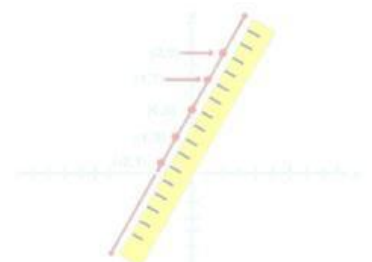


EVALUASI 2



<https://idm.in/dTmi9uE>

Angga bersepeda dengan kecepatan tetap 14 km/jam. Setelah 4 jam, ia menempuh jarak 40 km. Berapa lama waktu yang dibutuhkan oleh Angga untuk menempuh jarak 79 km? Serta gambarkan grafik persamaan garis lurus untuk kondisi tersebut jika sumbu x adalah waktu (jam) dan sumbu y adalah jarak (km)!



Lembar Jawaban

Handwriting practice area with 20 sets of dotted lines on a light beige background.



Lembar Jawaban

Handwriting practice area with 20 sets of dotted lines for writing.



Lembar Jawaban

Handwriting practice area with 20 sets of dotted lines on a light beige background.

