


Lembar Kerja Peserta Didik

PENJUMLAHAN

KELAS 1



Nama:

Kelas:

YUK AMATI GAMBAR DAN HITUNG JUMLAHNYA!

1



Ada kucing.



Lalu, datang

kucing lainnya ikut bergabung.



Jadi, jumlah kucing semuanya ada

.

2




Abian memiliki

pensil.



Ibu memberi Abian

pensil lagi.

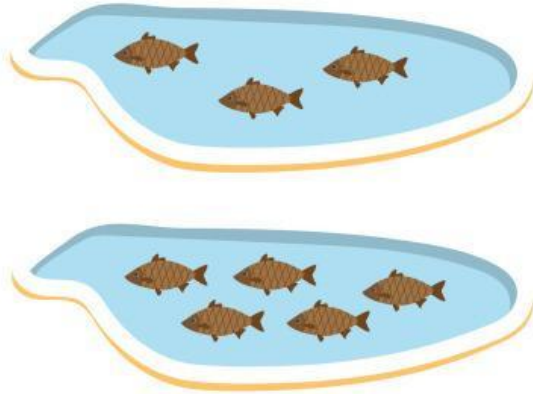


Jadi, jumlah pensil Abian ada

.

YUK TULIS KALIMAT MATEMATIKA DENGAN TEPAT!

3




Ada 3 ikan di dalam kolam. Kemudian, ditambahkan 2 ikan lagi ke dalam kolam.

Jadi, sekarang ada 5 ikan.

Kalimat matematika:

$$\underline{\quad\quad} + \underline{\quad\quad} = \underline{\quad\quad}$$

4



Ada 6 bunga tumbuh di taman. Kemudian, tumbuh lagi 2 bunga lainnya.

Jadi, sekarang ada 8 bunga.

Kalimat matematika:

$$\underline{\quad\quad} + \underline{\quad\quad} = \underline{\quad\quad}$$

Pilihlah pernyataan yang benar!

$1+3 = 5$

$4+4 = 10$

$6+4 = 10$

$7+2 = 9$

$5+3 = 8$

$6+5 = 12$

$9+2 = 10$

$6+2 = 8$

$7+3 = 9$

Tentukan hasil dari pertanyaan berikut!

Hasil dari $9+3 = \dots$

13

12

11

14

Hasil dari $2+5 = \dots$

8

7

10

6

Hasil dari $7+3 = \dots$

9

10

11

12

Pasangkan penjumlahan dengan hasil yang benar !

$2+4$

$5+4$

$6+1 =$






$2+1 =$

$1+4 =$

 7 3 9 6 5

Belajar Berhitung

Geser jawaban yang benar pada jumlah buah yang tepat!

	10	9
	14	12
	5	8
	5	4
	2	3