

Nama:

Kelas:

Sistem Pencernaan Manusia

Tuliskan organ-organ penyusun sistem pencernaan manusia di bawah ini.

A.

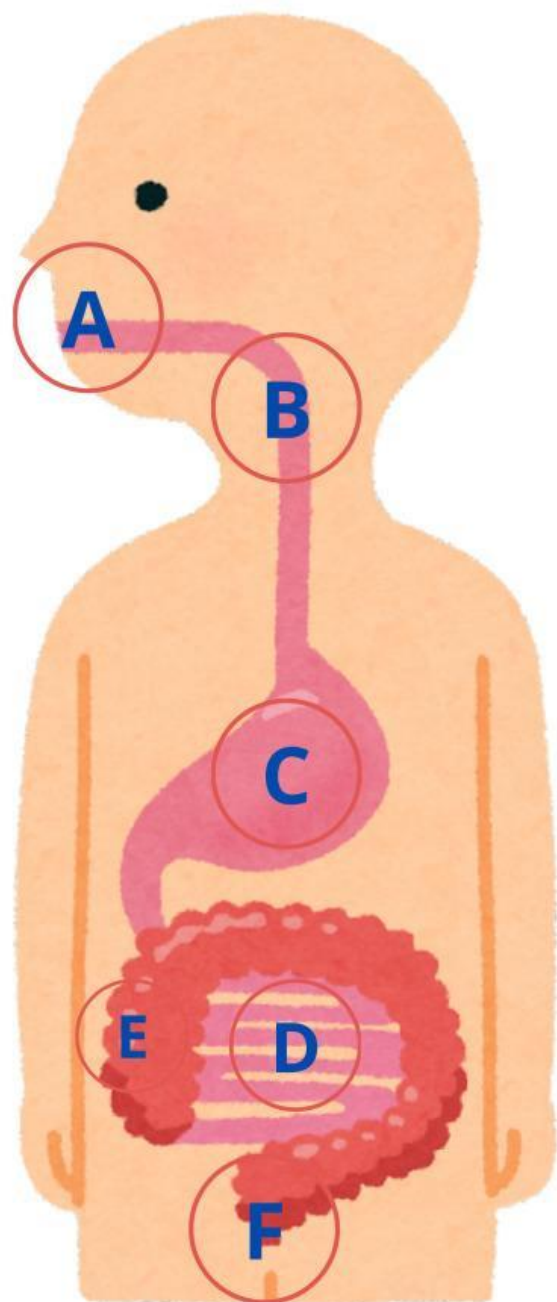
B.

C.

D.

E.

F.



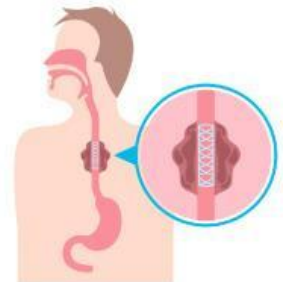
Nama : _____

Kelas : _____

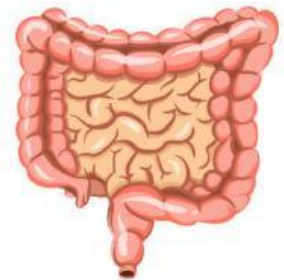
ORGAN PENCERNAAN

Ayo jodohkan Organ Pencernaan dibawah ini sesuai dengan Fungsinya!

pembusukan sisa-sisa makanan oleh bakteri Escherichia coli.



Tempat masuknya makanan ke saluran pencernaan, terdapat lidah, kelenjar ludah, dan gigi.



Esofagus dapat melakukan gerakan bergelombang dan meremas-remas guna mendorong makanan masuk lambung.



Tempat terjadinya proses pencernaan kimiawi dan penyerapan sari-sari makanan



menyimpan makanan dan cairan yang tertelan, mencampur makanan dengan cairan pencernaan yang diproduksinya

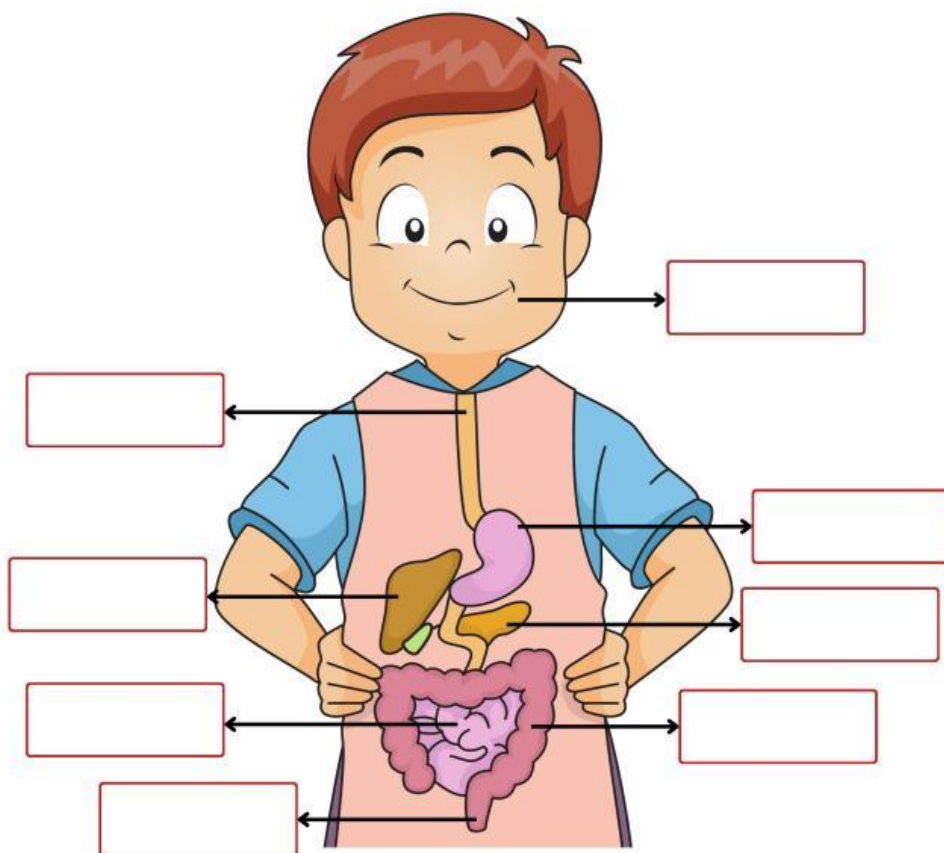


Nama:

Kelas:

Sistem Pencernaan Manusia

Tuliskan nama-nama organ pencernaan pada manusia



Gunakan nama organ pencernaan berikut untuk melengkapi gambar di atas

Mulut

empedu

lambung

usus besar

hati

usus halus

anus

kerongkongsn