

Nama:

Kelas:

Sistem Pencernaan Manusia

Tuliskan organ-organ penyusun sistem pencernaan manusia di bawah ini.

A.

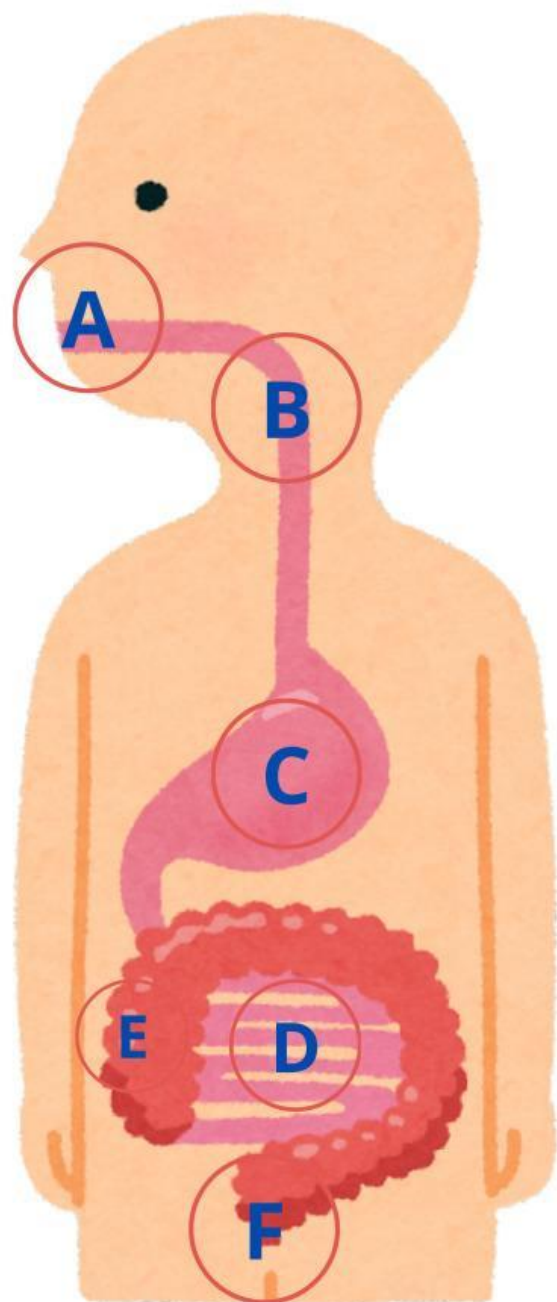
B.

C.

D.

E.

F.



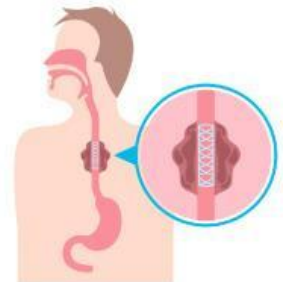
Nama : _____

Kelas : _____

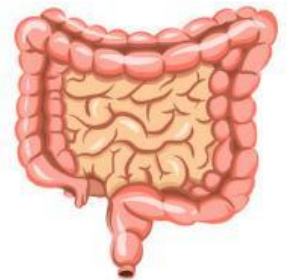
ORGAN PENCERNAAN

Ayo jodohkan Organ Pencernaan dibawah ini sesuai dengan Fungsinya!

pembusukan sisa-sisa makanan oleh bakteri Escherichia coli.



Tempat masuknya makanan ke saluran pencernaan, terdapat lidah, kelenjar ludah, dan gigi.



Esofagus dapat melakukan gerakan bergelombang dan meremas-remas guna mendorong makanan masuk lambung.



Tempat terjadinya proses pencernaan kimiawi dan penyerapan sari-sari makanan




menyimpan makanan dan cairan yang tertelan, mencampur makanan dengan cairan pencernaan yang diproduksinya





TEKA-TEKI SILANG



MENDATAR



- 1 Tempat terjadinya pencernaan mekanik
- 4 Berfungsi untuk mengecap rasa makanan
- 5 Penghubung antara mulut dan lambung
- 6 Berfungsi untuk mencerna makanan dan mengaduk makanan
- 8 Tempat pembusukan makanan dengan bantuan bakteri ekoli
- 10 Berfungsi mengeluarkan enzim amilase, lipase dan tripsin



MENURUN



- 2 Berfungsi untuk menghancurkan makanan
- 3 Enzim yang berfungsi memecah karbohidrat menjadi glukosa
- 7 Tempat penyerapan sari makanan
- 9 Lubang tempat pembuangan feses dalam tubuh

Nama :

Kelas :