


Evaluación Trimestral

- Une el concepto con el tipo de texto



La mamá de Caperucita le ha pedido que lleve pastelitos a su abuelita, quien vive en un peligroso bosque. Antes de ir, la mamá le recomendó que tuviera cuidado en el camino; pero Caperucita no siempre le hace caso a su mamá. Si quieres saber qué aventuras pasó en el bosque, lee el cuento *Caperucita Roja*, de Charles Perrault, en la página 126 del libro de Español.



Carta

Infografía

Noticia

Recado

Recomendación

- Resuelve los siguientes problemas seleccionando la operación con la que resuelves el problema y el resultado

Mi abuelita me regaló 2 canicas azules, y 10 rojas, ¿cuántas me regalo en total?

$10 - 2 =$	$10 + 2 - 2 =$	$2 + 10 =$
12	13	8

Emilio tenía 15 carritos, pero le prestó 4 a su primo Carlos para jugar, ¿cuántos tiene ahora?

$15 - 4 =$	$10 + 4 - 1 =$	$10 + 4 =$
10	11	12

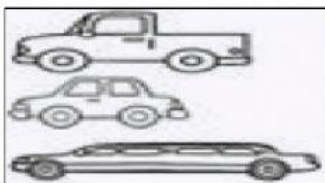
Su mamá de Paty tenía 7 rosales, sembró 4 claveles y 1 nochebuena, ¿cuántas tiene ahora?

$7 - 5 =$	$7 + 4 + 1 =$	$7 + 4 =$
10	11	12

¿Cuántos colores tengo ahora si tenía 18 pero perdí 5?

$18 - 5 =$	$13 + 5 + 1 =$	$13 - 5 =$
15	12	13

- Compara los objetos y selecciona el de menor longitud en cada caso



- Escribe sobre la letra A si es un alimento Fresco o B si es procesado

A) Alimento Fresco

b) Alimento Procesado

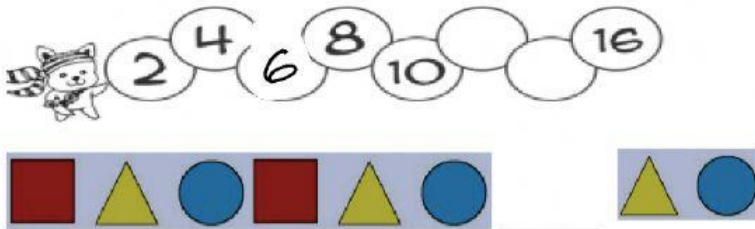


Febrero 2020						
Dom	Lun	Mar	Mie	Jue	Vie	Sáb
						1
2	3	4	5	6	7	8
9	10	11	12	13	14	15
16	17	18	19	20	21	22
23	24	25	26	27	28	29

- Natalia cumple años el 29 de febrero y cayó en sábado
- Antonio faltó a a escuela el 4 de febrero que fue Jueves
- El 24 de febrero que celebramos a la bandera cayó en lunes
- El último día del mes cayó en sábado

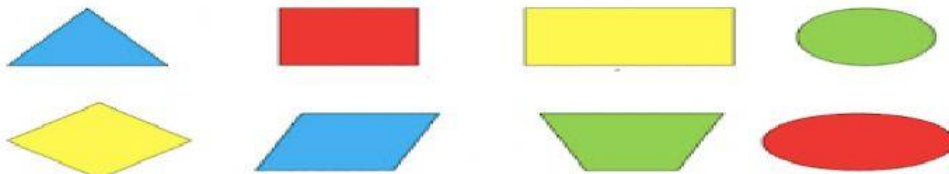
V	F
V	F
V	F
V	F

- Completa los patrones según corresponda



	12
	21
	14

- Selecciona aquellas figuras que que tengan cuatro lados



- Observa el croquis y completa cada oración correctamente



-La escuela se encuentra al lado _____ de la cafetería

-El supermercado está _____ de la escuela

- _____ del parque se encuentra del supermercado

-Coloca la carita dependiendo de cómo crees que se sienta la persona

- Mariana obtuvo un 10 en su examen después de estudiar y esforzarse _____
- Algunos niños no quieren integrar a Juan a jugar futbol _____
- Luis comió demasiado chile y le duele su estomago _____



- Selecciona si se trata de un entorno natural o social



- Une las causas con las consecuencias



- Responde las siguientes preguntas

1) ¿Cuándo celebrados el Día de la Bandera? _____

- Pinta la bandera jalando los rectángulos del color que corresponden

