



Kurikulum
Merdeka

Lembar Kerja Peserta Didik

MATEMATIKA

Kelas III

Materi : Pecahan



Disusun oleh : ASTI

Nama Kelompok :

Anggota Kelompok :

- 1.
- 2.
- 3.
- 4.



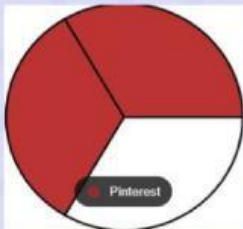
1. **duduklah sesuai dengan kelompok yang telah ditentukan**
2. **diskusikanlah soal berikut dengan kelompokmu**
3. **bertanyalah kepada guru jika ada yang tidak dipahami**



Cocokkanlah gambar berikut susai
dengan angka pecahannya




$4/8$



$3/6$



$2/4$



$2/3$



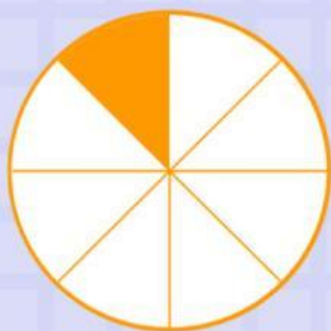
pilihlah pernyataan pecahan yang benar
sesuai dengan daerah yang diarsir pada
gambar



$$\frac{3}{8}$$

$$\frac{8}{3}$$

$$\frac{4}{8}$$



$$\frac{8}{1}$$

$$\frac{7}{8}$$

$$\frac{1}{8}$$

GOOD LUCK :)

