

GRUPO EDUCATIVO TRINITARIO – Evaluación de CIENCIAS SOCIALES
Unidad N°1 – (formato digital)

1) Selecciona la frase correcta que define al concepto de: MAPA

A) Representa territorios muy pequeños como barrios o pueblos.

B) Representa superficies terrestres de mayor tamaño que los planos.

C) Representa la cantidad de personas que viven en un país.

2) Completa las siguientes oraciones, arrastrando la opción que consideres correcta:

A) Argentina comparte el límite con que otros países:

Chile – México- Uruguay – Brasil – Perú

Chile – Bolivia- Uruguay – Brasil – Paraguay

B) La provincia de Córdoba comparte el límite provincial con:

Santa Fe – Buenos Aires – Tucumán – La Rioja – San Luis - Corrientes – Santiago del Estero

Santa Fe – Buenos Aires- Catamarca – La Rioja – San Luis - La Pampa – Santiago del Estero

C) La Argentina es un _____ de América.

continente

pueblo

provincia

país

ciudad

C) El mar que baña las Costa del Este de nuestro país es el _____

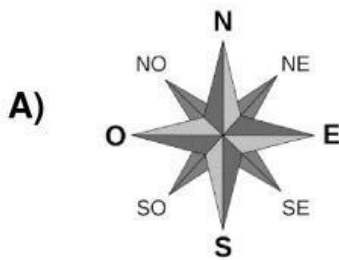
Mar Caribe

Mar Adriático

Mar Caspio

Mar Argentino

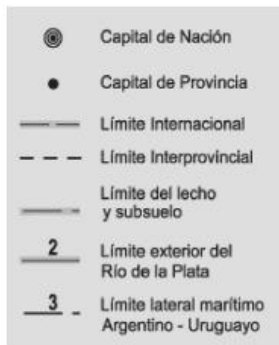
3) Observa los siguientes elementos y une con una flecha al nombre con que se los identifica.



Reloj de los vientos

Rosa de los Vientos


B)



Signos ortográficos

Signos cartográficos

C)



Regla

Escala

4) Uní con flecha según corresponda:

Mapa Político

división territorial de un país.

Provincia

cada una de las partes en que se divide una provincia.

Departamento

representa la división de un territorio, por ejemplo: de una provincia, país, continente o mundo.

Límite

punto que señala la separación de dos territorios.