

Colegio Pedagógico Américas



Segundo Grado


Matemáticas

¡Tú puedes hacerlo!



Escribe tu nombre completo:

Arrastra la respuesta correcta de la tabla del 4 en la flor.



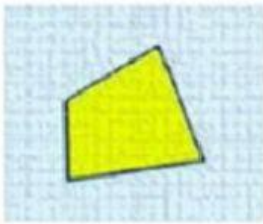

40	8	4	12	20
28	24	36	16	32

Colegio Pedagógico Américas



Segundo Grado

Arrastra el nombre de la figura al lugar correcto



TRAPEZOIDE

TRAPECIO

CUADRADO

RECTÁNGULO

ROMBO


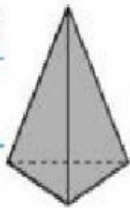
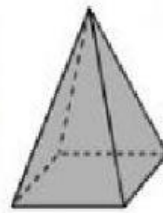
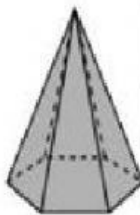
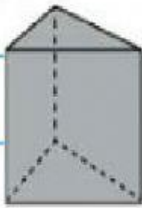
ROMBOIDE

Colegio Pedagógico Américas

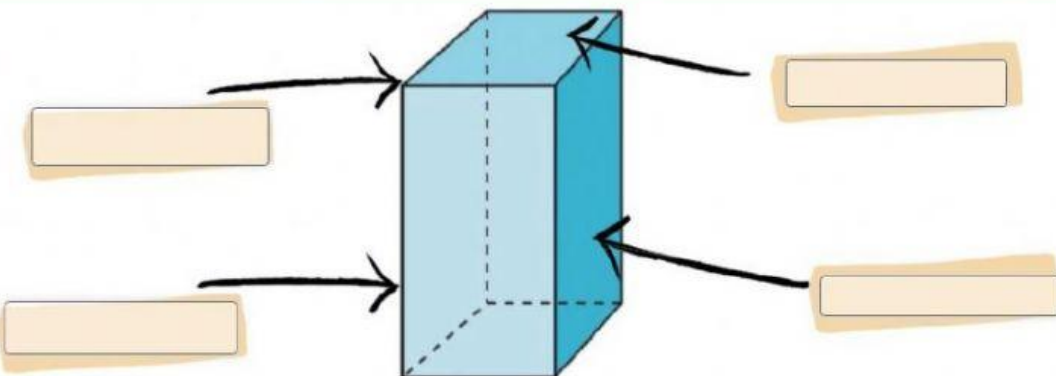


Segundo Grado

Selecciona la respuesta correcta



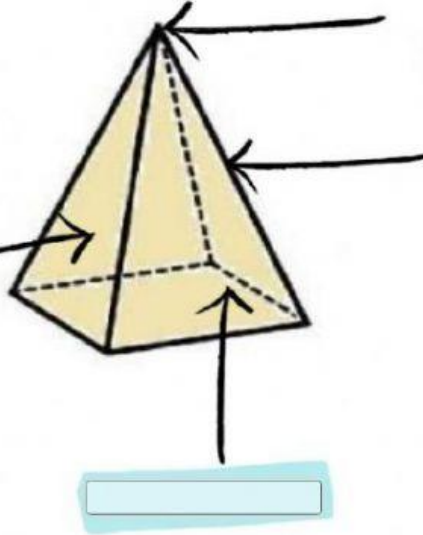
Escribe las partes del prisma y de la pirámide según corresponda.



Colegio Pedagógico Américas



Segundo Grado



Completa la tabla del 5

$5 \times 5 = \square$

$5 \times 2 = \square$

$5 \times 9 = \square$

$5 \times 8 = \square$

$5 \times 1 = \square$

$5 \times 6 = \square$

$5 \times 3 = \square$

$5 \times 10 = \square$

$5 \times 7 = \square$

$5 \times 4 = \square$

Suerte!!

¡Que te vaya bien!



Colegio Pedagógico Américas



Segundo Grado