

LEMBAR KERJA PESERTA DIDIK (LKPD)

SISTEM TATA SURYA
Fase C / Kelas VI Mata Pelajaran IPAS

KELAS :

KELOMPOK :

ANGGOTA :

1.

2.

3.

4.

5.

TUJUAN PEMBELAJARAN













- Peserta didik mampu mendemonstrasikan sistem kerja tata surya dengan benar.
- Peserta didik mampu mengidentifikasi karakteristik planet dalam sistem tata surya dengan benar.

PETUNJUK Pengerjaan :

1. Isilah nama kelompok, dan anggota kelompok di lembar E-LKPD.
2. Bacalah petunjuk di masing-masing lembar yang ada di E-LKPD dengan teliti.
3. Tanyakan pada guru jika ada bagian yang tidak dimengerti
4. Pastikan setiap anggota kelompok bekerja sama dalam menyelesaikan E-LKPD

Sistem Tata Surya

Perhatikan gambar benda langit berikut dan tuliskan nama dari masing-masing benda langit tersebut kedalam kotak yang disediakan!

 <input type="text"/>	 <input type="text"/>	 <input type="text"/>
 <input type="text"/>	 <input type="text"/>	 <input type="text"/>
 <input type="text"/>	 <input type="text"/>	 <input type="text"/>
 <input type="text"/>	 <input type="text"/>	 <input type="text"/>

PLANET

DI TATA SURYA

Hubungkanlah planet-planet berikut sesuai dengan karakteristiknya!

Ini satu-satunya planet yang diketahui mendukung kehidupan.

A

1



Ini adalah planet terdekat dengan Matahari.

B

2



Ini adalah planet terpanas di tata surya.

C

3



Ini adalah planet terjauh dari Matahari.

D

4



Ini adalah planet bercincin tapi biasanya tak terlihat

E

5



Ini adalah planet yang terkenal dengan cincinnya yang cantik.

F

6



Ini adalah planet yang sering disebut "Planet Merah".

G

7



Ini adalah planet terbesar di tata surya.

H

8

