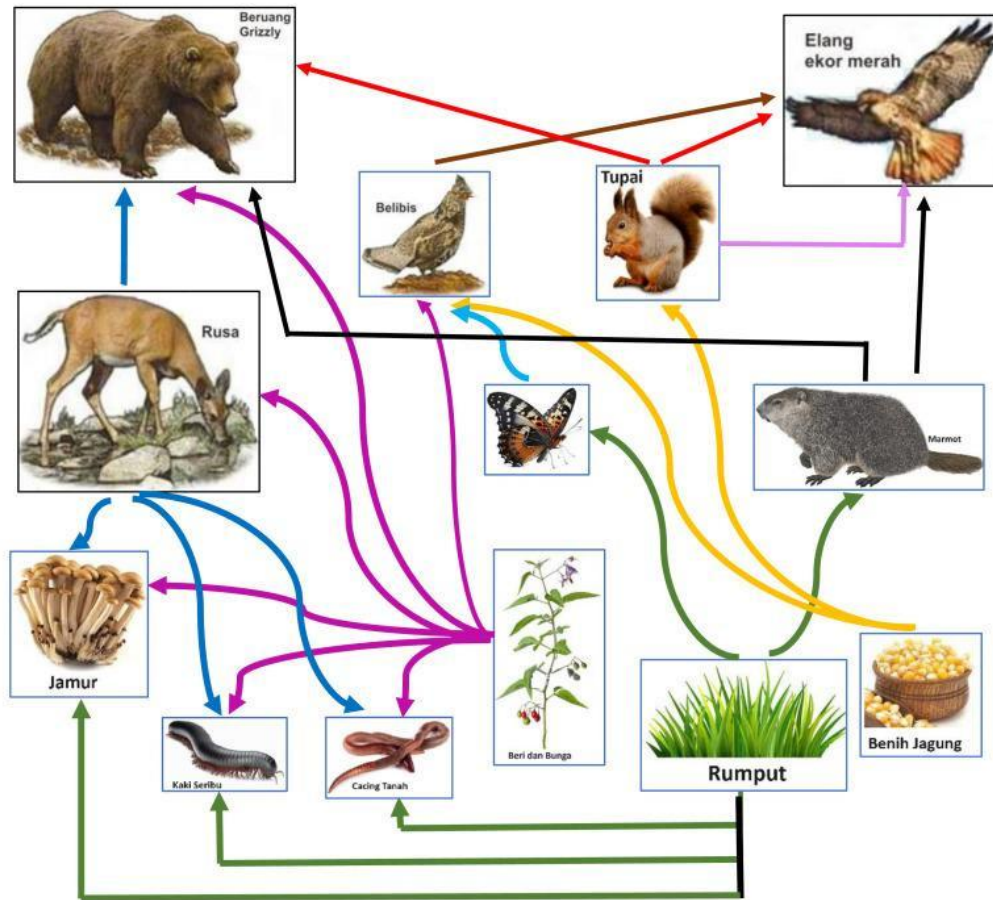


NAMA SISWA:





KELAS:










PIRAMIDA MAKANAN

Perhatikan jaring-jaring makanan berikut. Kerjakan soal-soal dibawah!



A. Lengkapi tabel berikut dengan cara memberi tanda centang pada kolom yang benar!

Gambar	Produsen	Konsumen I	Konsumen II	Konsumen III	Detrivor/ Dekomposer	Tingkatan Piramida
						
						
						
						

Gambar	Produsen	Konsumen I	Konsumen II	Konsumen III	Detrivor/ Dekomposer	Tingkatan Piramida
 Rumput						
 Berri dan Bunga						
 Jamur						
 Tupai						
 Belibis						
 Kupu-kupu						
 Benih Jagung						
 Kaki Seribu						
 Cacing Tanah						

B. Jawab Pertanyaan berikut ini dengan cara memilih jawaban yang tepat!

- Jika populasi kupu-kupu semakin menurun akibat pencemaran asap pabrik di lingkungan sekitarnya, maka akan mempengaruhi populasi lain, yaitu
 - .
 - .
- Populasi beruang grizzly semakin berkurang karena banyak diburu untuk diambil bulunya. Hal ini akan mempengaruhi populasi lain, yaitu
 - .
 - .

C. Berdasarkan jaring-jaring makanan di atas, letakkan gambar berikut ke dalam piramida makanan!

