

EVALUANDO MI CONOCIMIENTO

NOMBRE:

GRADO:





TEMA: FRACCIONES

1. Observa las imágenes y escribe que fracción hay en cada tipo de fruto

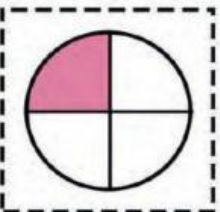

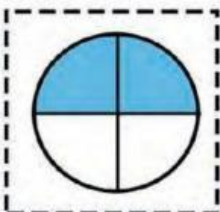
Naranjas:

Peras:


2. Observa las imágenes y escribe las fracciones tomadas de la unidad


	<input style="width: 60px; height: 60px; border: 1px solid black; border-bottom: 1px solid black;" type="text"/>		<input style="width: 60px; height: 60px; border: 1px solid black; border-bottom: 1px solid black;" type="text"/>
	<input style="width: 60px; height: 60px; border: 1px solid black; border-bottom: 1px solid black;" type="text"/>		<input style="width: 60px; height: 60px; border: 1px solid black; border-bottom: 1px solid black;" type="text"/>


3. Arrastra la representación de las fracciones y pégalas donde corresponde.

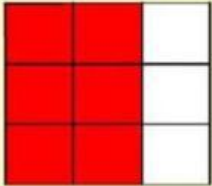
$\frac{2}{4}$	<input style="width: 100px; height: 100px; border: 1px solid black;" type="text"/>	$\frac{1}{4}$	<input style="width: 100px; height: 100px; border: 1px solid black;" type="text"/>	$\frac{2}{5}$	<input style="width: 100px; height: 100px; border: 1px solid black;" type="text"/>
					


4. Completa la fracción y escribe si es propia o impropia


 $\frac{\quad}{5}$


 $\frac{\quad}{5}$


 $\frac{\quad}{5}$


 $\frac{6}{\quad}$


 $\frac{9}{\quad}$

5. Arrastra la fracción decimal a donde corresponde

Decimal	Fracción
0.007	
0.45	
0.001	
0.148	
0.4	

Decimal	Fracción
0.08	
0.7	
0.045	
0.1	
0.07	