

KURIKULUM MERDEKA

LEMBAR KERJA PESERTA DIDIK



NAMA : _____

KELAS : _____




LKPD


TATA SURYA



PERHATIKAN VIDEO BERIKUT INI



PERHATIKAN MATERI PRESENTASI BERIKUT



MATERI



LKPD

TATA SURYA



1

TEXT FIELD

Planet yang memiliki cincin yang sangat samar dan hampir tidak terlihat adalah...

2

SINGLE CHOICE

Planet yang dikenal sebagai "Planet Merah" karena permukaannya yang berwarna kemerahan adalah:

3

CHECK BOXES

berilah ceklis yang sesuai dengan pernyataan tentang tata surya

1. Matahari adalah pusat dari sistem tata surya

2. Mars adalah planet yang memiliki bulan terbanyak di Sistem Tata Surya

3. Saturnus memiliki cincin yang sangat indah di system tata surya

4. Neptunus adalah planet terdekat dengan matahari

LKPD

TATA SURYA

4

SELECT

Apakah planet terbesar dalam tata surya?

JUPITER

SATURNUS

URANUS

5

OPEN ANSWER

Apakah planet terkecil dalam tata surya?

6

WORD SEARCH

temukan nama-nama planet yang ada pada kotak dibawah ini

M	E	R	K	U	R	I	U	S	I	A
A	H	C	D	G	H	M	E	E	N	B
R	K	M	V	E	N	U	S	J	H	R
S	W	E	D	I	A	B	A	N	N	T
R	A	M	B	Y	U	U	K	O	E	K
R	T	T	S	I	N	G	A	R	P	W
R	E	J	U	P	I	T	E	R	T	U
R	M	A	N	R	A	N	I	M	U	P
R	J	L	A	M	N	G	L	K	N	W
R	S	A	R	H	P	U	D	L	U	F
R	A	M	U	U	P	M	S	O	S	G


LKPD

TATA SURYA

7

SPEAK



Rekam suaramu untuk menyebutkan nama planet berikut dengan cara menekan tombol rekam



8

LISTENING

Dengarkan suara berikut dan tuliskan jawabannya



9

DRAG AND DROP

Lengkapilah nama planet berikut dengan gambar yang sesuai



SATURNUS



BUMI



VENUS

LKPD

TATA SURYA

10

JOIN


Tentukan pasangan nama-nama planet yang sesuai



MARS



URANUS



SATURNUS



BUMI



VENUS