



1



Utiliza el **Recortable 2** y ordena los números.

¿Dónde pongo esta tarjeta?

75



Página
155

0	1	2	3	4	5	6	7	8	9
10	11	12	13	14	15	16	17	18	19
20	21	22	23	24	25	26	27	28	29
30	31	32	33	34	35	36	37	38	39
40									
50									59
	61				65				
70									
	81								89
90						96		98	
100									

2

Completa cada secuencia con el número que corresponde.

A.

94	95	96		98	
----	----	----	--	----	--

B.

77		79		81	82
----	--	----	--	----	----

3

Responde.

A. 3 más que 97 es igual a .

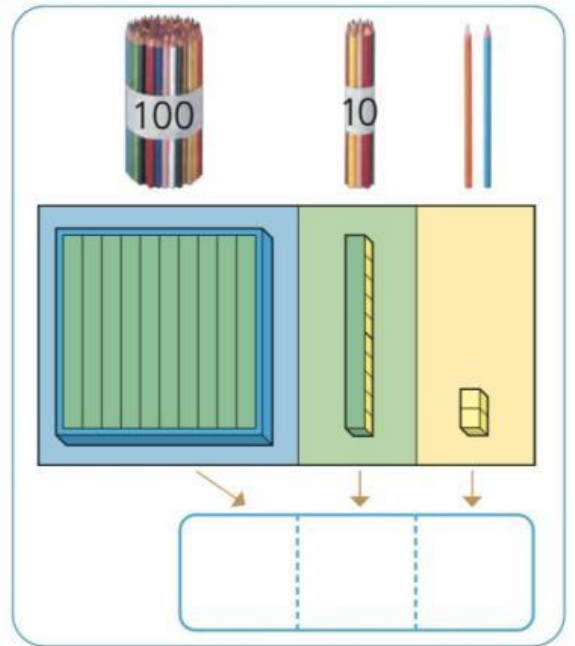
B. 10 menos que 100 es igual a .

Números mayores que 100

1 ¿Cuántos lápices hay?

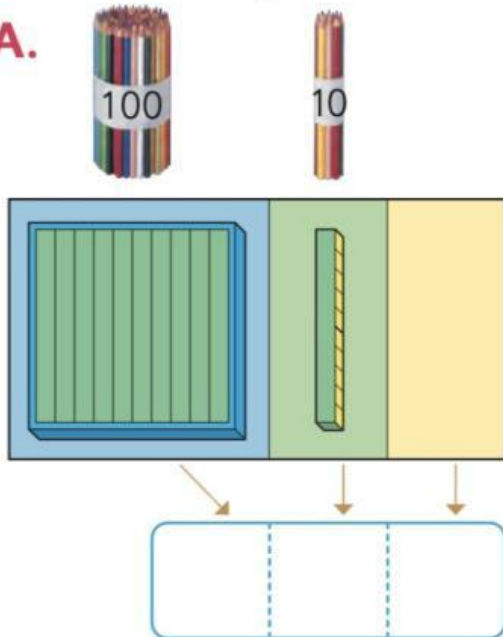
100 y 12 son 112.

112 se lee: ciento doce.

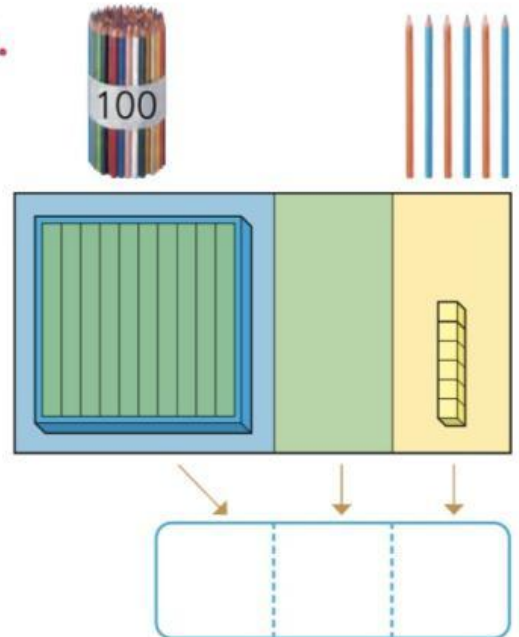


2 ¿Cuántos hay?

A.



B.



3 Lee los números.

100	101	102	103	104	105	106	107	108	109
110	111	112	113	114	115	116	117	118	119
120									

Sumar



- 1** Carola recortó 20 estrellas y Ana 30.
¿Cuántas recortaron en total?

Suma la cantidad de decenas.

A. Escribe una expresión matemática.

B. Pensemos cómo encontrar la respuesta.

Decenas	Unidades

Cuenta los grupos de 10.



Respuesta: estrellas.

Ejercita

Suma.

A. $40 + 30 =$

B. $20 + 10 =$



2

Emilio tiene 23 lápices.

Su hermana mayor le dio 6 más.

¿Cuántos lápices tiene?



A. Escribe una expresión matemática.

B. Pensemos cómo encontrar la respuesta.

Decenas	Unidades

Suma la cantidad de decenas y de unidades.



Respuesta: lápices.

Ejercita

Suma.

A. $42 + 1 =$

B. $25 + 4 =$

70

80

90

100

110

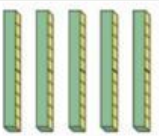
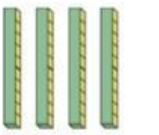
120

Practica

- 1** Manuel tiene 50 hojas de papel lustre y Matilde 40. ¿Cuántos papeles tienen en total?

A.

B. Piensa cómo encontrar la respuesta.

Decenas	Unidades
	
	

Junta los grupos de 10.

Hay hojas de papel lustre en total.

- 2** Suma.




A. $60 + 20 =$

B. $80 + 20 =$

- 3** Tengo 34 pegatinas. Mi hermana me dio 3 más. ¿Cuántas tengo en total?

A.

B. Piensa cómo encontrar la respuesta.

Decenas	Unidades
	
	

Hay decenas y

unidades.

Tengo pegatinas en total.

- 4** Suma.

A. $71 + 4 =$

B. $5 + 23 =$