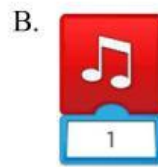
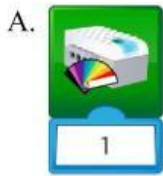
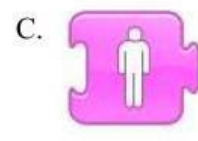


Câu 1

a) Câu lệnh nào dùng để lập trình màu sắc? (1 điểm)



b) Khối lệnh phóng to nhân vật:



c) Bộ phận này tên là gì?



A. Bộ não

B. Động cơ

C. Cảm biến