

SOAL EVALUASI

Bagian-Bagian Tumbuhan

Mata Pelajaran: Ilmu Pengetahuan Alam dan Sosial (IPAS)

Bab: Tumbuhan, Sumber Kehidupan di Bumi

Topik: A. Mengidentifikasi bagian tubuh tumbuhan dan mendeskripsikan fungsinya

Nama:



Kelas:

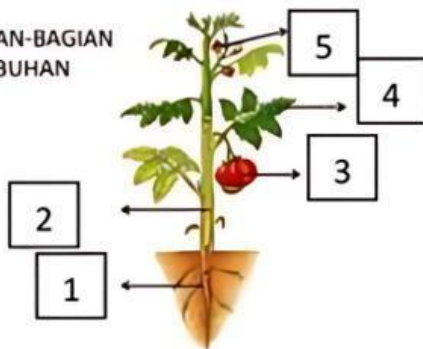


Tulislah jawaban kamu pada kolom yang disediakan!



Perhatikan gambar di bawah ini !

BAGIAN-BAGIAN
TUMBUHAN



1

Analisislah bagian-bagian tumbuhan sesuai dengan nomor yang ada pada gambar tersebut! ✓✓

Jawaban:




2

Analisislah fungsi pada bagian tumbuhan yang ditunjukkan pada gambar! ✓✓

Jawaban:



Perhatikan gambar di bawah ini !





Perhatikan cerita di bawah ini !



Beni dan Doni bermain di kebun dekat danau. Beni menemukan beberapa tumbuhan, dia bersama Doni mengamati tumbuhan tersebut.

- Tumbuhan pertama yang mereka lihat ada eceng gondok, tulang daunnya seperti garis-garis yang melengkung.
- Tumbuhan kedua yang mereka amati adalah pohon melinjo, daunnya menyerupai sirip ikan.
- Tumbuhan yang ketiga yaitu pohon singkong, Doni menempelkan jarinya ke atas daun tersebut dan ternyata daun tersebut menyerupai jari-jari tangan

3

Dari cerita tersebut, analisislah nama tanaman dan jenis daun berdasarkan struktur tulangnya! ✓✓

Jawaban:



4

Analisislah mengapa batang bayam termasuk ke dalam batang basah? ✓✓
Jelaskan pendapatmu!

Jawaban:



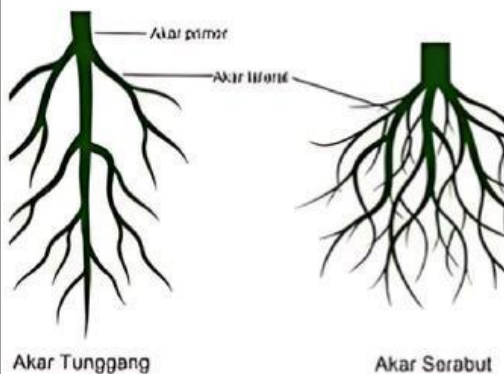
Perhatikan cerita di bawah ini !



Ibu membeli seikat bayam. Rani membantu ibu untuk membersihkan bayam tersebut. Rani pun mengamati batang dari bayam tersebut. Batang bayam masuk ke dalam batang basah.



Analisislah gambar di bawah ini !



5

Setelah menganalisisnya, tuliskan perbedaan kedua jenis akar tersebut! ✓✓

Jawaban:

