

1. Observa os gráficos termopluriométricos.

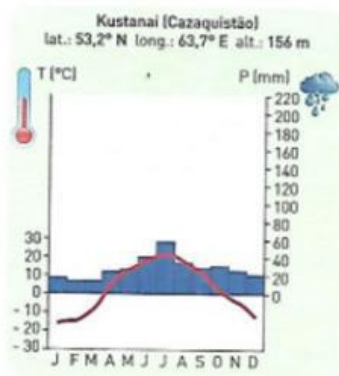


Fig. 1

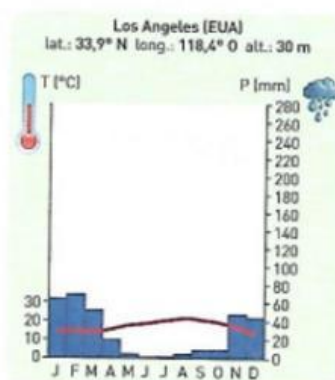


Fig. 2

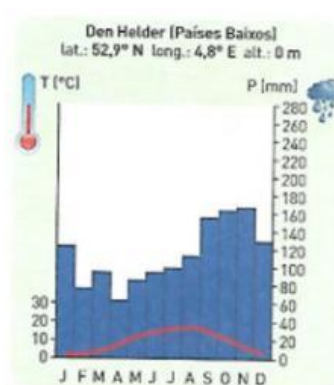


Fig. 3

1.1. Partindo da análise dos gráficos termopluriométricos nas **figuras 1,2 e 3**, **seleciona** a opção correta para cada uma das características seguintes:

- 1.1.1. Clima temperado continental _____
- 1.1.2. Clima temperado mediterrâneo _____
- 1.1.3. Clima temperado marítimo _____
- 1.1.4. Amplitudes térmica anuais moderadas _____
- 1.1.5. Verões frescos _____
- 1.1.6. Amplitudes térmica anuais bastante acentuadas _____
- 1.1.7. Verões quentes e secos _____