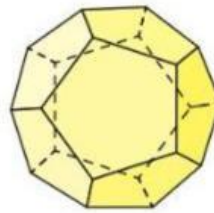
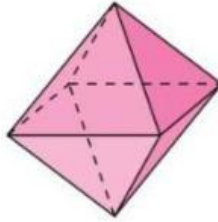
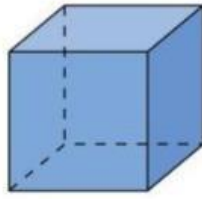
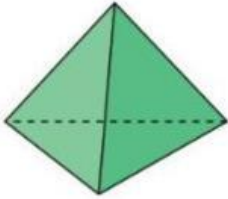
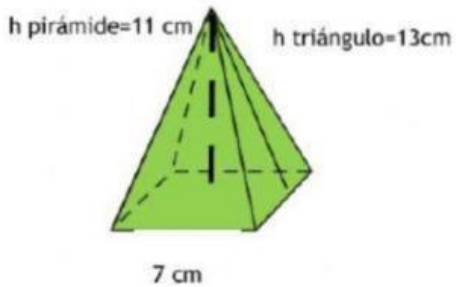


	CM3.2 UD09 T11			Nota
	Nombre y apellidos:	Nº:	Grupo: 3º	
		Fecha:		

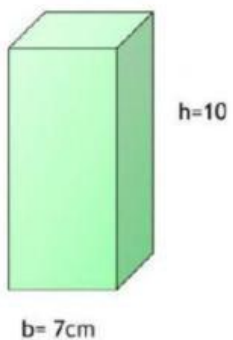
1) Indica el nombre de cada poliedro debajo de cada figura: (2,5 puntos)



2) Calcula el área y el volumen de la figura (2,5 puntos)



3) Calcula el área y el volumen de la figura (2,5 puntos)



4) Calcula el volumen de la siguiente figura (2,5 puntos)

