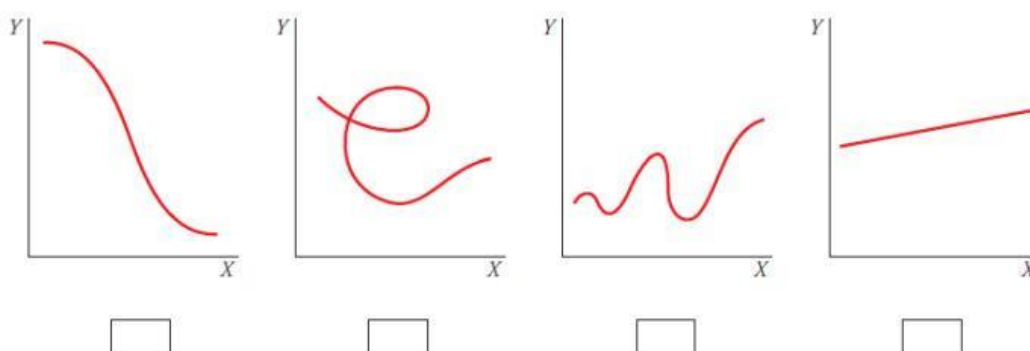


1.- Indica si los siguientes enunciados son verdaderos o falsos.

- La variable  $x$  se llama variable independiente.
- La variable  $y$  se llama variable dependiente.
- Una función asocia a cada valor de  $x$  uno o más valores de  $y$ .
- Una función asocia a cada valor de  $x$  un único valor de  $y$ .

2.- Señala, entre estas gráficas, la que no corresponde a una función



3.- ¿Identificas la pendiente en las funciones lineales?

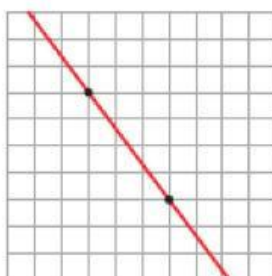
La pendiente de la recta  $y = 3x + 4$  es .....

La pendiente de la recta  $y = 5 - x$  es .....

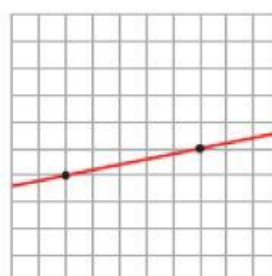
4.- Escribe la pendiente de cada recta



$m =$



$m =$



$m =$