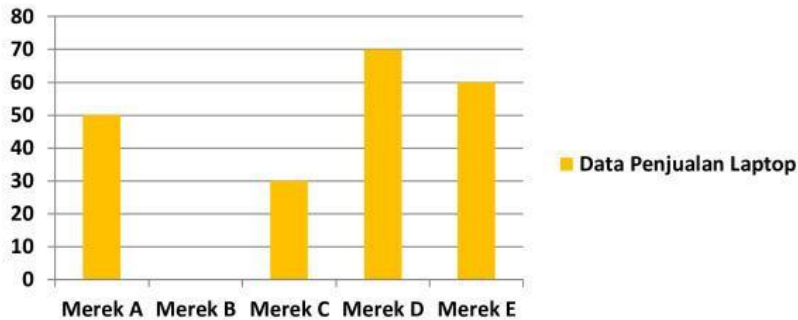


SUMATIF 2

1. Paman Meli memiliki pohon mangga. Paman Meli akan memanen buah mangga dalam 5 hari. Pada hari senin pohon mangga itu berbuah sebanyak 7 kg, hari Selasa 4 kg, hari Rabu 9 kg, hari Kamis 6 kg dan pada hari Jumat belum diketahui beratnya. Berat keseluruhan buah mangga hasil panen adalah 35 kg. Berapa kg hasil panen pada hari Jumat?

2. Perhatikan diagram berikut.

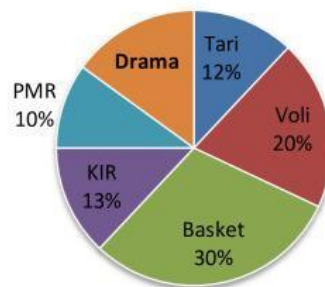
Data Penjualan Laptop



Jika banyak penjualan dalam seminggu adalah 250 buah, berapakah banyak laptop merek B yang terjual?

3. Perhatikan diagram lingkaran berikut.

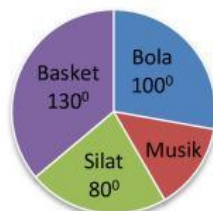
Kegiatan Ekstrakurikuler Siswa



Jika jumlah siswa keseluruhan adalah 300 orang, banyak siswa yang mengikuti ekstrakurikuler drama adalah ...

4. Perhatikan diagram berikut.

Data Hobi Siswa



Diketahui sekolah SMP A memiliki total siswa 1.260 siswa. Berapa siswa yang mempunyai hobi musik?