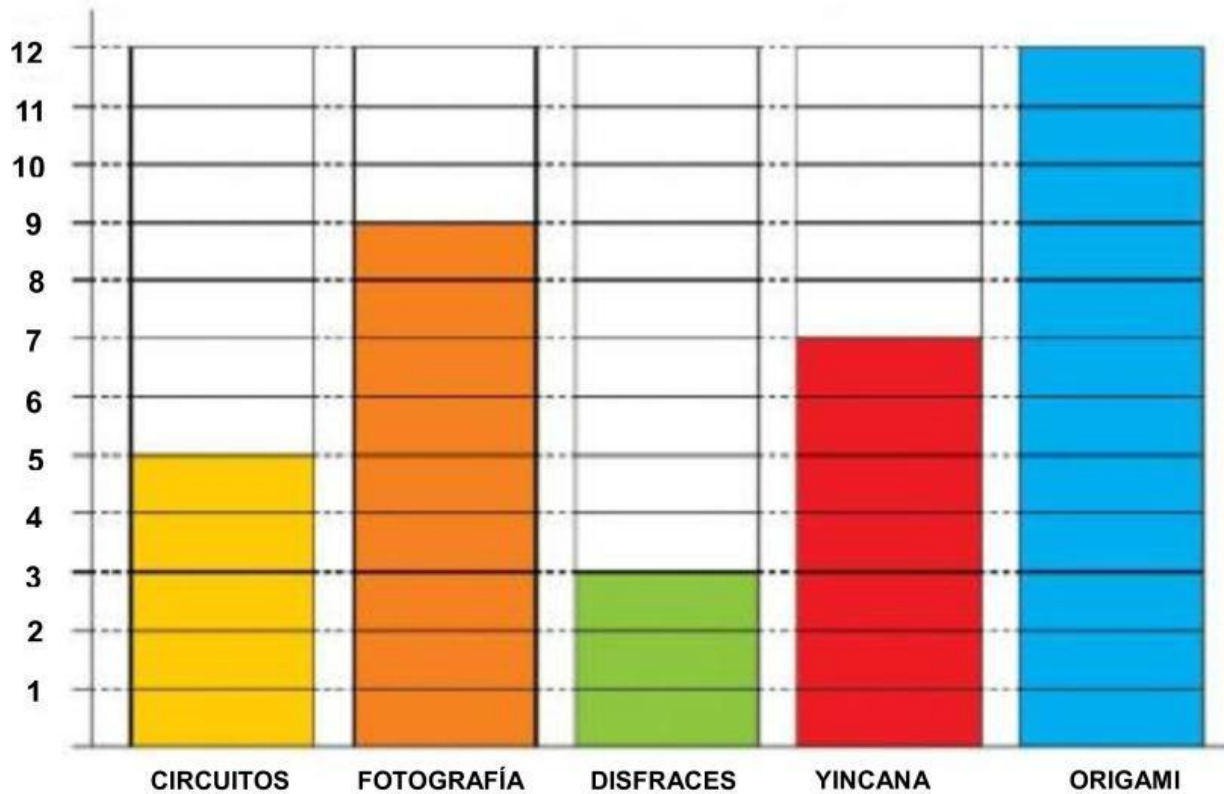


FICHA INTERACTIVA MATEMÁTICA – 2ºB

Contar, representar e interpretar gráficos de barra

1. Martha anota en este gráfico cuántas veces ha realizado cada actividad en el campamento.



Responde:

📞 ¿En cuántas yincanas ha participado Martha?

📞 ¿Qué actividad ha realizado menos veces?

📞 ¿Cuántas veces ha hecho circuitos más que disfraces?

📞 ¿Y disfraces menos que fotografía?


📞 Si todo los días tenía talles de origami, ¿Cuántos días duró el campamento?

2. Esto es lo que llevaban Martha y Alex a las excursiones. Cuenta y completa la tabla.



3. PINTA según las cantidades del cuadro:

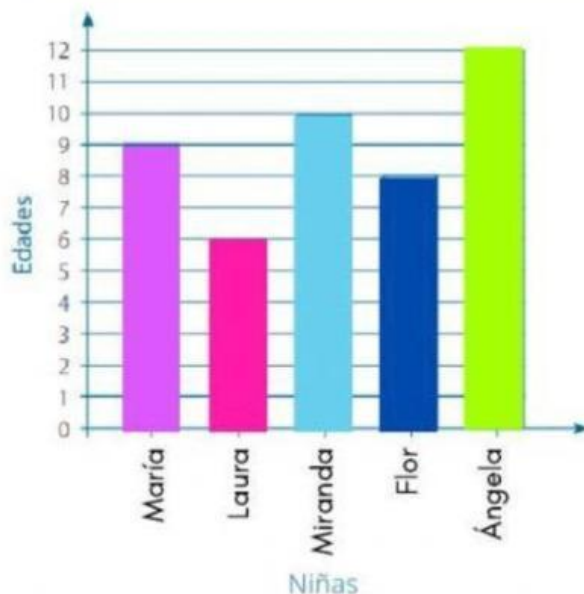


Observa el gráfico de barras vertical y responde si los enunciados son verdaderos o falsos.



- a. Se vendieron 180 helados de chocolate. (☐)
- b. Se vendieron 130 helados de fresa. (☐)
- c. El sabor de helado menos vendido fue el de lúcuma. (☐)
- d. Se vendieron 60 helados de vainilla. (☐)

Las edades de cinco niñas han sido representadas en el siguiente gráfico de barras verticales.



Responde:

- a. ¿Cuántos años tiene la niña mayor?

11

12

13

14

- b. ¿Qué niña tiene 9 años?

María

Ángela

Luisa

Flor

- c. ¿Qué diferencia hay entre la edad de la niña mayor y la niña menor?

3

5

6

8

4. Observa los siguientes videos:

