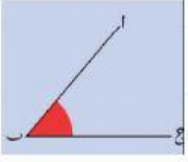


نشاط تعلم ذاتي
درس الزوايا

صل بخط بين نوع الزاوية وشكلها



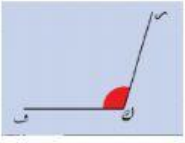
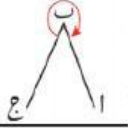
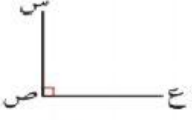
زاوية قائمة


زاوية حادة

زاوية منفرجة

زاوية مستقيمة

زاوية منعكسة





قيمة س في الشكل المقابل تساوي:

٨٠ (د)

٣٠ (ج)

٦٠ (ب)

٤٠ (أ)

