



LKPD

MATEMATIKA

Bangun Datar

BANGUN DATAR

Sebutkan nama bangun di bawah ini!

1

2

3

4

5

6

NAMA :

KELAS :

BANGUN DATAR

BERIKAN NOMOR URUT PADA GAMBAR BERIKUT
MULAI DARI YANG TERBESAR

1

2

3

Urutan....

1

2

3


Urutan....

BANGUN DATAR

BERIKAN NOMOR URUT PADA GAMBAR BERIKUT
MULAI DARI YANG TERBESAR



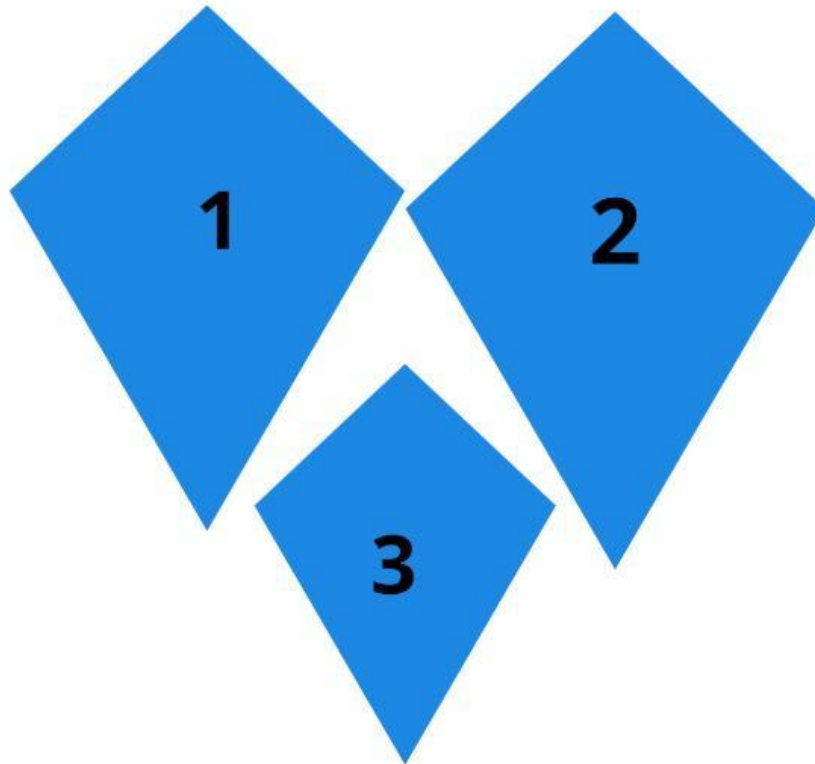
Urutan....




Urutan....

BANGUN DATAR

BERIKAN NOMOR URUT PADA GAMBAR BERIKUT
MULAI DARI YANG TERBESAR



Urutan....



Urutan....