

LKPD

Lembar Kerja Peserta Didik

Rantai Makanan Kelas V


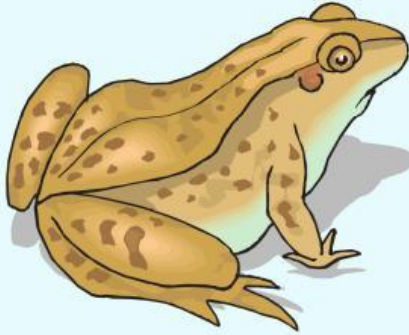

Nama : _____

Kelas : _____



IDENTIFIKASI KOMPONEN RANTAI MAKANAN

Isilah kolom tersebut menggunakan konsumen tingkat I, konsumen tingkat II, konsumen tingkat III, dan pengurai pada beberapa hewan dibawah ini!



Mencocokkan Pengertian Seputar Rantai Makanan



KUNCI JAWABAN

Rantai Makanan

Konsumen tingkat I

Konsumen tingkat II

Konsumen tingkat III

Pengurai

proses makan dan
dimakan pada
serangkaian organisme
dengan urutan tertentu.

ditempati oleh hewan-
hewan herbivora atau
pemakan tumbuhan

ditempati oleh hewan-
hewan karnivora dan
omnivora.

hewan puncak rantai
makan

mengurai bangkai atau
tumbuhan yang sudah mati





MENGELOMPOKAN KOMPONEN RANTAI MAKANAN



Tikus



Belalang



Ulat



Kadal




Katak



Ayam



Buaya



Singa



Ular



Cacing Tanah



Bakteri




Jamur



TEKA-TEKI SILANG

RANTAI MAKANAN



Across

- 2. Konsumen III
- 3. Konsumen II
- 4. tanah Pengurai

Down

- 1. Konsumen I
- 2. Kumpulan dari individu, populasi, dan komunitas. karena dalam

Activate V
Go to Setting

