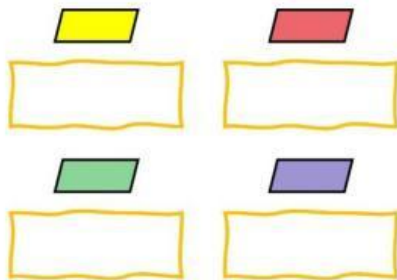
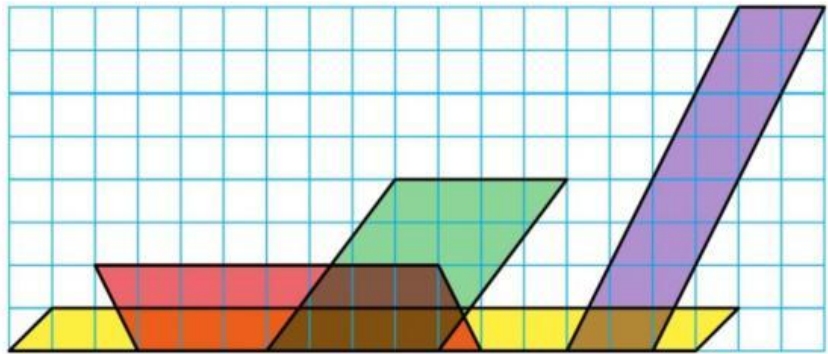




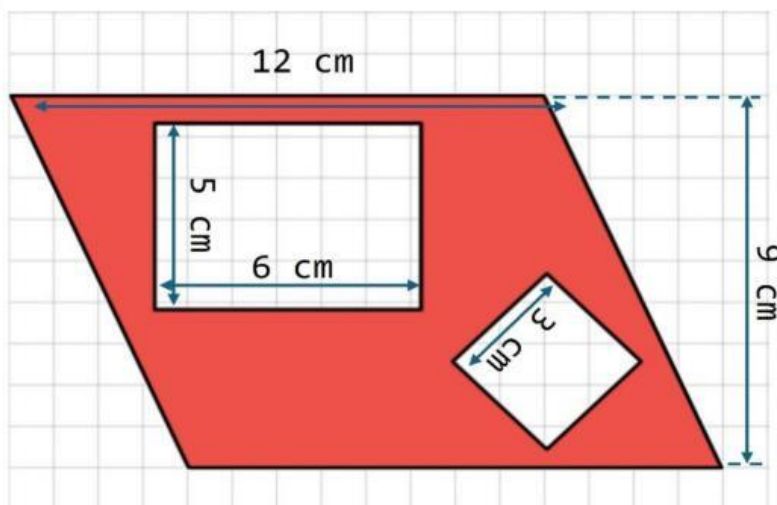
**Q**ué romboide tiene mayor área coloreada? Calcúlalo usando como unidad de medida 1 cuadradito cuadrado.



cuadraditos cuadrados



**C**alcula el área de la zona roja de este polígono.



Área del polígono

cm<sup>2</sup>

**C**alcula el área de esta estrella de mosaico.

Área de la estrella de mosaico

cm<sup>2</sup>

Diferencia entre la zona verde y la zona naranja

cm<sup>2</sup>

