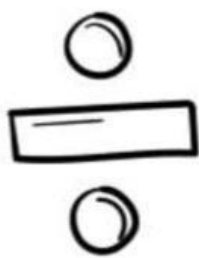



Reconociendo signos aritméticos

Escribe el nombre del signo



## Reconocimiento las figuras geométricas

Arrastre cada figura geométrica del lado izquierdo a su correspondiente nombre del lado derecho




TRIÁNGULO




CUADRADO



RECTÁNGULO



ROMBO







www.thefairyprintess.com