


# Изваждане на числата до

## 20 с преминаване

1. Преброй и запиши.



2. Вярно ли е, че? Свържи.

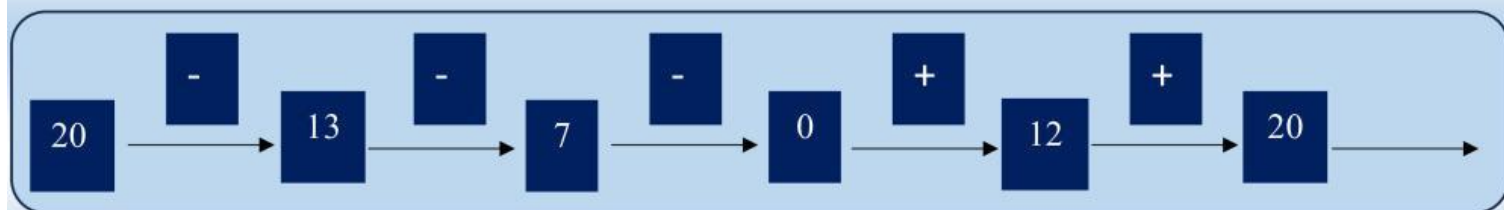
$$13 - 5 = 7$$

ДА

НЕ

$$12 - 4 = 5$$

### 3. Попълни верижката.



### 4. Попълни пропуснатите числа.

13 -  = 9  
13 -  = 8  
13 -  = 6

5.

Автобус пътувал с 17 пътници. На следващата спирка слезли 9. С колко пътници е продължил автобуса?

(  )

6.

Кое е това число, което е с 5 по-малко от 13?

7. Продължи редиците от числа

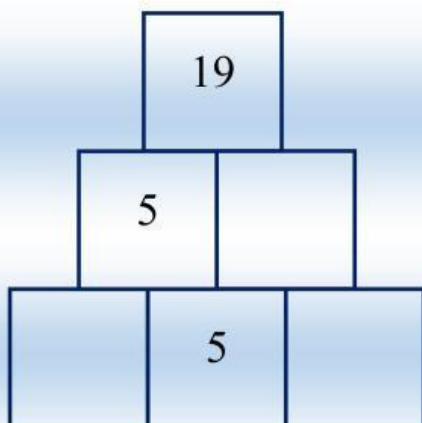
А) 3, 6, ..., 12, ..., 18

Б) 20, 17, ..., 11, ..., ..., 2

8. Попълни, така, че квадратът да е магически

	2	9	4	15
	7		3	
15				

9.



## 10. Решите задачи!

$2 + 5 + 9 =$ 

--	--

$4 + 3 + 8 =$ 

--	--

$6 + 3 + 5 =$ 

--	--