

COLEGIO VALVERDE INFANTIL  
PRIMER PROYECTO BIMESTRAL  
CURSO: MEDIO SOCIAL.  
GRADO: SEGUNDO SECCIÓN: "A" Y "B"  
DOCENTES: CLAUDIA GARCIA / ANAÍ PÉREZ


SERIE I 10 PTS \_  
SERIE II 10 PTS \_  
SERIE III 10 PTS \_  
SERIE IV 10 PTS \_

ALUMNO: \_\_\_\_\_ FECHA: \_\_\_\_\_

**INSTRUCCIONES GENERALES:** Antes de responder, lee la evaluación. Escribe tus respuestas con lápiz. No se permiten tachones, ya que esto anula la respuesta.

**SERIE I.**

**INSTRUCCIONES:** colorea las familias y une con una línea al tipo de familia que corresponde cada una.



Familia nuclear

Familia extensa

- Une con una línea los siguientes incisos con los nombres de los miembros de la familia correspondiente guíate por el ejemplo.

a.) Hermano de tu mamá.

Abuelo

b.) Hija de tus abuelos.

Hermana

c.) Hijo de tus tíos.

Mamá

d.) Papá de tu papá.

Abuela

e.) Hija de tus padres.

Tío

f.) Mamá de tu papá.

Primo



Lista de Cotejo		Puntos
1	Une correctamente los tipos de familia.	2
2	Colorea las familias.	1
3	Identifica y une correctamente a los miembros de la familia.	1



**SERIE III**

**INSTRUCCIONES:** colorea las fuentes de la historia según la clave de colores.

Rojo= fuentes materiales Verde= fuentes escritas amarillo= fuentes orales



Monumentos

Leyendas

Periódicos

Pergaminos

Restos humanos

Testimonios



- Marca con una "X" en la ciencia auxiliar correspondiente a cada concepto. Guíate por el ejemplo.

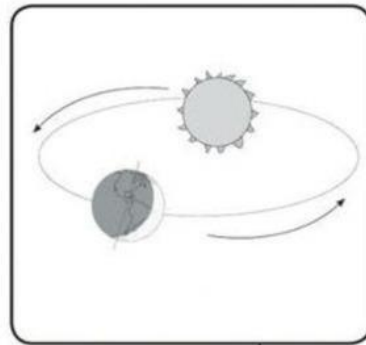
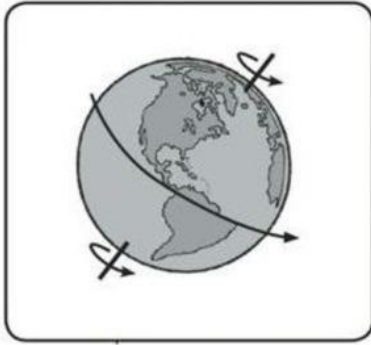
Concepto	Numismática	Geografía	Cartografía	Arqueología	Etnología
Estudia todo lo relacionado con culturas, etnias y pueblos.					X
Investiga restos materiales de culturas antiguas.					
Investiga moneda y medallas antiguas					
Describe accidentes geográficos, paisajes y regiones.					
Analiza y elabora mapas.					



Lista de Cotejo		Puntos
1	Identifica y colorea las fuentes de la historia correctamente	1
2	Identifica y marca cada ciencia auxiliar correctamente	1

**SERIE IV**

**INSTRUCCIONES:** Escribe como se llama el movimiento que realiza la tierra según cada ilustración.



\_\_\_\_\_

\_\_\_\_\_

- Subraya la respuesta correcta a cada pregunta. Guíate por el ejemplo

1.) ¿Cuánto dura el movimiento de rotación?

30 días                      24 horas                      265 días

2.) ¿Qué lugar ocupan la tierra en el sistema solar?

6to lugar                      1er lugar                      3er lugar

3.) ¿Cuál es nombre del movimiento que dura aproximadamente 365 días?

Traslación                      día                      rotación

4.) El movimiento de rotación produce...

Las estaciones                      El día y la noche                      un año



Te queremos y confiamos en ti.

Att: miss Anai y miss Claudia.

Lista de Cotejo	Puntos
Identifica y escribe los movimientos de la tierra según corresponde	2
Subraya la respuesta correcta a cada pregunta	2

