

LKPD

Lembar Kerja Peserta Didik

**PENGUKURAN SUDUT, WAKTU, PANJANG,
DAN BERAT**



Nama: _____

Kelas : _____

4

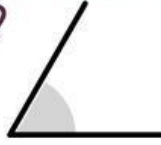
MATEMATIKA

YUK JAWAB PERTANYAAN DI BAWAH INI




1

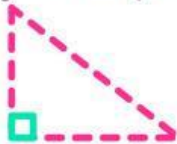
Apa yang terbentuk oleh dua ruas garis yang saling berpotongan?



2



Dalam waktu 45 menit, berapa banyak sudut $\frac{1}{4}$ putaran yang dilalui jarum panjang sebuah jam?



JODOHKAN SATUAN WAKTU DI BAWAH INI YUK



1 abad



4 bulan

1 caturwulan



8 tahun

1 semester



6 bulan

1 dasawarsa



10 tahun

1 windu



100 tahun





COCOKKAN DENGAN JAWABAN YANG TEPAT



3 jam + 45 menit = menit

2 jam + 20 menit + 45 detik = detik

2,5 jam + 53 menit + 37 detik = detik

8.445

225


12.217

YUK PILIH BEBERAPA JAWABAN YANG TEPAT

- 1** Pilihlah beberapa satuan dibawah ini yang termasuk dalam satuan panjang

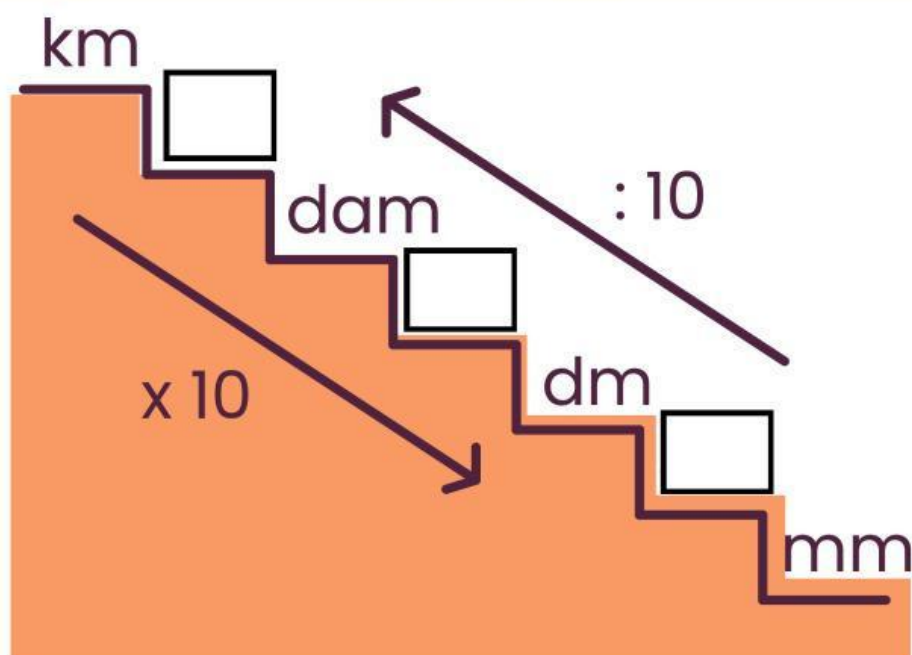
☐ km ☐ dag ☐ mm ☐ hm ☐ mg

- 2** Pilihlah beberapa alat dibawah ini yang dapat digunakan untuk mengukur panjang

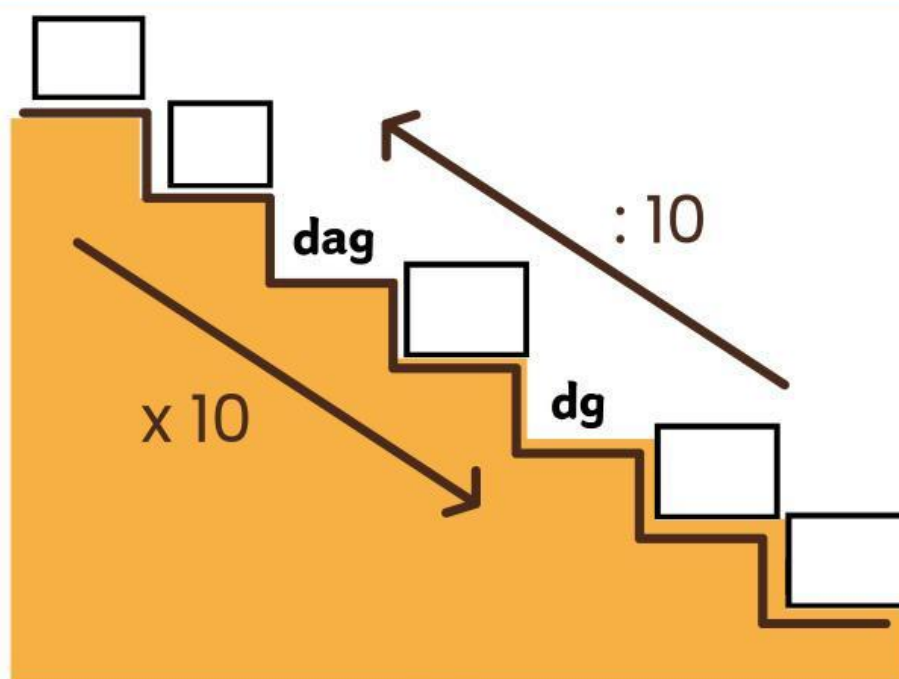
☐☐☐☐



LENGKAPI SATUAN PANJANG DI BAWAH INI



LENGKAPI SATUAN BERAT DI BAWAH INI



JAWABLAH DENGAN JAWABAN YANG TEPAT



Pak Ahmad mendapatkan hasil panen seberat 3 ton padi. Berat panen tersebut sama beratnya dengan....



Klik ikon di samping untuk mendengarkan soal



YUK CARI 4 KATA YANG TERMASUK SATUAN KUNTITAS



T	U	L	U	S	I	N	A	K
O	M	Z	E	C	B	I	D	A
K	O	D	I	U	G	H	E	R
A	M	I	N	B	R	O	S	I
N	A	S	D	I	O	Z	E	M
Z	E	R	A	T	S	I	R	U
I	C	A	H	Z	A	D	I	N

