

EL LITRO

1 LITRO



1 litro



medio litro



cuarto de litro



1. ¿Dónde cabe menos de un litro? Pincha.



2. Ordena de menor a mayor capacidad los siguientes envases. Arrastra cada uno en su lugar.



--	--	--	--

3. Tengo una pecera que para llenarla necesito 16 vasos de agua. Si cada vaso de agua es un cuarto de litro, ¿cuántos litros necesito para llenar la pecera?

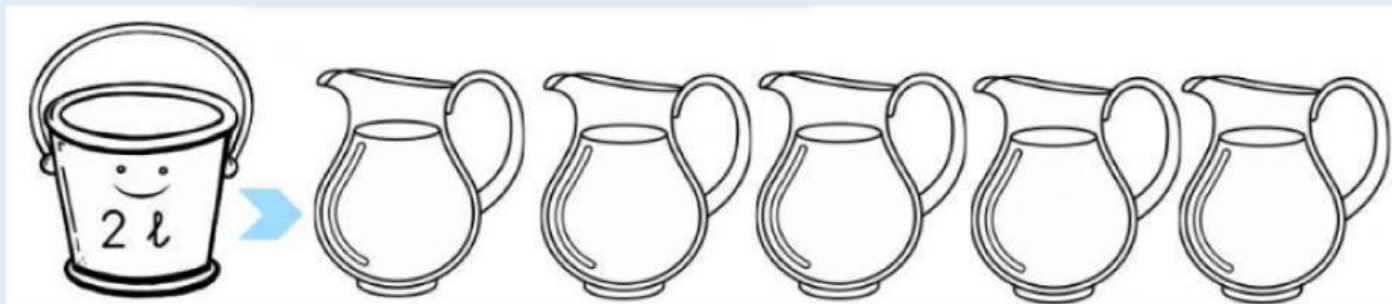
Escribe en el cuadro el número de litros.



Necesito litros de agua.

4. Piensa y contesta.


- ❖ ¿Cuántas jarras de 1 litro necesitas para meter el agua del cubo? **Pincha en las jarras que necesitas.**



- ❖ ¿Cuántas jarras de medio litro ($1/2$) necesitas para meter agua del cubo? **Pincha en las jarras que necesitas.**




5. ¿Cuántos litros hay? Mira con atención la capacidad de cada uno de los recipientes, cuenta y escribe el número de litros.



Hay litros



Hay litros



Hay litros



Hay litros