



CLASES DE GIROS



1- Selecciona en cada caso la posición que resulta, después de hacer el giro indicado sobre el punto M. Observa la posición inicial.






Tres cuartos de vuelta a la izquierda



Un cuarto de vuelta a la derecha

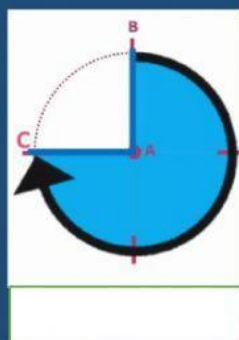


Dos cuartos de vuelta a la derecha

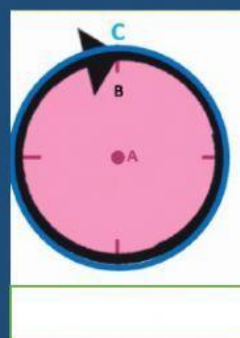


2- Arrastra el enunciado y completa, qué giro efectuó la flecha desde la posición inicial.

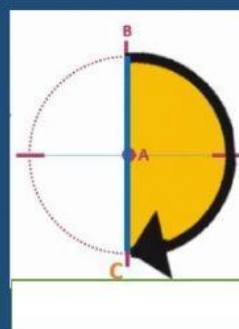
Cuatro cuartos de vuelta



Tres cuartos de vuelta



Un cuarto de vuelta



Dos cuartos de vuelta

