



LKPD



YouTube player

Simak video berikut!



PowerPoint



 **LIVEWORKSHEETS**

Checkboxes

MARI BERHITUNG

Hitunglah jumlah bagian tumbuhan dan lingkari angka yang tepat.



Word search

K	H	B	I	G	K	H	D	T	A	C	K	H	H	P
S	O	T	O	B	N	R	A	U	T	A	R	A	W	A
A	N	K	E	P	A	N	D	S	A	T	E	B	O	P
T	T	T	I	K	A	N	D	S	A	A	N	U	R	U
E	A	P	R	A	W	O	N	L	I	A	N	G	T	A
B	D	K	I	J	B	K	A	M	E	N	D	O	A	N
A	J	D	G	H	A	P	U	U	K	G	N	B	L	E
N	M	C	P	E	C	E	L	A	R	G	T	U	X	R
D	B	S	R	R	A	P	A	U	S	U	S	R	Y	A
E	Y	R	E	I	I	P	E	M	P	E	K	G	G	P
N	L	U	N	M	A	L	J	K	U	T	D	R	A	L
N	A	L	D	A	P	B	G	U	D	E	G	S	X	H
G	M	E	A	U	L	E	D	R	I	S	A	G	F	U
P	B	B	N	N	B	A	T	A	G	O	R	T	N	O
K	O	L	G	M	H	N	T	J	N	K	T	L	R	O

Tandai nama makanan khas daerah dalam tabel, lalu tuliskah sesuai gambar di bawah ini.



1. _____















2. _____



3. _____

Join

Hubungkan gambar dan tulisan berikut sesuai dengan jawaban yang benar! Selamat mengerjakan!

	<input type="radio"/>	<input type="radio"/>	Tempat ibadah umat beragama Islam	
	<input type="radio"/>	<input type="radio"/>	Tempat ibadah umat beragama Konghucu	
	<input type="radio"/>	<input type="radio"/>	Tempat ibadah umat beragama Hindu	
	<input type="radio"/>	<input type="radio"/>	Tempat ibadah umat beragama Buddha	
	<input type="radio"/>	<input type="radio"/>	Tempat ibadah umat beragama Katolik	
	<input type="radio"/>	<input type="radio"/>	Tempat ibadah umat beragama Kristen	

Textfield

Bacalah dengan seksama cerita di bawah ini. Berdasarkan cerita tersebut, jawablah pertanyaan yang diberikan.

Domba adalah hewan ternak. Mereka dapat menghasilkan wol dan susu. Domba makan rumput dan jerami. Domba senang berkumpul bersama kawanannya. Domba memiliki bulu yang lembut dan lebat. Domba menyediakan wol untuk pakaian.



1 Apa saja yang dapat dihasilkan oleh domba?
