



PEMERINTAH KABUPATEN LOMBOK BARAT
DINAS PENDIDIKAN DAN KEBUDAYAAN
SEKOLAH DASAR NEGERI 1 DASAN BARU

Alamat : Jl. Surau Akhlaqul Amin Desa Dasan Baru Kec. Kediri Kab. Lombok Barat

**UJIAN SUMATIF AKHIR SATUAN PENDIDIKAN
TAHUN PELAJARAN 2023/2024**

Mata Pelajaran : SENI BUDAYA DAN PRAKARYA
Hari/Tanggal :
Alokasi Waktu : 90 Menit

PETUNJUK UMUM

1. Berdoalah sebelum mengerjakan soal!
2. Tuliskan identitas dengan menggunakan bolpen/pena pada lembar jawaban yang tersedia!
3. Periksa kelengkapan naskah soal ujian dan bacalah soal-soal sebelum menjawab!
4. Berilah tanda silang (X) pada huruf A, B, C, atau D yang benar pada lembar jawaban yang tersedia!
5. Apabila ada jawaban yang dianggap salah dan ingin diperbaiki, coretlah dengan tanda dua garis lurus mendatar (=) pada jawaban yang salah, kemudian berilah tanda silang (X) pada huruf jawaban lain yang dianggap benar!

Contoh :

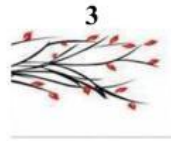

a. Jawaban pertama : ~~X~~ B C D
b. Dibetulkan menjadi : ~~X~~ B ~~X~~ D

6. Kerjakanlah soal – soal sesuai dengan petunjuk pengerjaannya!
7. Tidak dibolehkan menggunakan kalkulator, HP, tabel matematika, atau alat bantu hitung lainnya.
8. Mintalah kertas buram pada pengawas bila diperlukan
9. Periksa pekerjaan sebelum diserahkan kepada pengawas ujian!
10. Akhiri ujian dengan berdoa, tinggalkan lembar jawaban di meja ujian, serta tinggalkan ruangan dengan tertib!

*** SELAMAT BEKERJA ***

I. Pilihlah jawaban yang benar dengan memberi tanda silang (X) pada huruf A, B, C, atau D pada jawaban yang benar!

1. Cermati gambar-gambar berikut!



Yang termasuk gambar tiga dimensi adalah

- A. 1
- B. 2
- C. 3
- D. 4

2. Cermati lagu berikut!



Yang bernada tinggi pada lagu tersebut terletak pada suku kata

- A. ku – ja – ha – ti - dah
- B. sa - cin – ta – pat – da
- C. yang – ku – ta – lan – ku – lu
- D. de – pu – a – dan – dai – tak

3. Cermati gambar berikut!



Tarian tersebut merupakan jenis tarian tunggal yang berasal dari daerah

- A. Jawa Barat
- B. Jawa Tengah
- C. Jawa Timur
- D. Yogyakarta

4. Perhatikan tabel berikut ini!

Nama Tarian	Asal Daerah
1. Seudati	A. Bali
2. Kecak	B. Nanggroe Aceh Darussalam
3. Gambyong	C. Jawa Tengah
4. Reog Ponorogo	D. Jawa Timur
5. Serimpi	E. DI. Yogyakarta

Nama dan asal daerah tarian yang tepat berdasarkan tabel tersebut adalah

- A. 1A – 2B – 3C
- B. 2A – 3C – 5D
- C. 2B – 3C – 4A
- D. 3C – 4D – 5E


5. Perhatikan tabel berikut ini!

1. Tempelkan satu persatu potongan potongan kertas yang sudah disiapkan pada sketsa atau pola gambar yang telah dibuat
2. Buatlah sketsa atau gambar pola pada buku gambar sesuai dengan keinginan.
3. Tutup pola secara menyeluruh dengan kerta warna- warni sesuai dengan keinginan
4. Potong-potong kertas origami/koran dan majalah bekas sesuai warna yang diinginkan menggunakan gunting.

Langkah-langkah yang tepat dalam membuat karya seni mozaik adalah

- A. 1 – 2 – 3 – 4
- B. 2 – 4 – 1 – 3
- C. 3 – 1 – 2 – 4
- D. 4 – 2 – 3 – 1

6. Cermati gambar-gambar berikut!



Yang termasuk hasil karya seni montase adalah

- A. 1
- B. 2
- C. 3
- D. 4

7. Cermati gambar-gambar berikut!



Jenis benda karya seni sesuai urutannya adalah

- A. keramik – arsitektur – kriya – patung
- B. patung – keramik – arsitektur – kriya
- C. kriya – patung – keramik – arsitktur
- D. arsitektur – kriya – patung – keramik

8. Cermati lirik lagu berikut!

*Gundul gundul pacul cul gembelengan
Nyunggi nyunggi wakul kul gembèlengan
Wakul ngglimpang segané dadi sak latar
Wakul ngglimpang segané dadi sak latar*

Tempo yang tepat untuk lagu tersebut adalah

- A. allegro
 - B. moderato
 - C. allegretto
 - D. presto
9. Pernyataan tanda tempo berikut yang tepat adalah
- A. allegro: sangat lambat dan luhur
 - B. andante: cepat
 - C. grave: sangat cepat
 - D. moderato: sedang
10. Gambar yang dibuat seperti keadaan aslinya, baik bentuk, ukuran, dan tata letaknya.
Dari keterangan diatas merupakan contoh dari corak gambar
- A. karikatur
 - B. realis
 - C. kartun
 - D. gambar
11. Bersifat riang gembira, bersemangat, biasanya diawali dan diakhiri dengan nada Do dan mempunyai pola interval.
Pernyataan tersebut merupakan ciri -ciri dari tangga nada
- A. minor
 - B. mayor
 - C. diatonis
 - D. pentatonic

12.

Ampar-ampar Pisang

$D_0 = G$
 $\frac{2}{4}$ Moderato
G Am7 D7 Kalimantan Selatan
G

0 5 / 1 1 7 1 / 2 5 5 / 2 2 1 2 / 3 . /
Am - par ampar pi - sang pi - sang - ku ba - lum ma - sak . /

Lagu tersebut menggunakan tangga nada

- A. diatonik minor
- B. diatonik mayor
- C. pentatonik mayor
- D. pentonik minor

13. Perhatikan tabel dibawah ini!

Nama Tarian		Properti	
1	Tari Kandagan	A	Piring
2	Tari Kancet Papatai	B	Selendang
3	Tari Reog	C	Kipas
4	Tari Piring	D	Topeng
5	Tari Kipas Serumpun	E	Mandau

Pasangan yang tepat dari table diatas adalah

- A. 1-C dan 2-E
- B. 2-E dan 3-C
- C. 4-C dan 5-A
- D. 3-D dan 5-C

14. Cermati teks bacaan berikut!

Manusia percaya terhadap adanya kekuatan-kekuatan mistik dilakukan dengan seni. Kemudian turunnya agama-agama pun menjadi seni sebagai kegiatan yang tak terpisahkan dari kegiatan keagamaan. Misalnya memuja roh-roh nenek moyang atau para dewa diwujudkan dengan patung. Menyampaikan dakwah Islam dengan pertunjukan wayang atau drama.

Berdasarkan bacaan diatas, fungsi seni rupa adalah sebagai

- A. media keagamaan
- B. media komunikasi
- C. media pendidikan
- D. media hiburan

15. perhatikan gambar dibawah ini!



Gambar batik diatas merupakan contoh dari daerah

- A. Banten
- B. Pekalongan
- C. Yogyakarta
- D. Solo

16. Perhatikan gambar dibawah ini!



Teknik yang digunakan dalam membuat gambar diatas secara berurutan adalah....

- A. arsir dan gosok
- B. sketsa dan blok
- C. arsir dan blok
- D. sketsa dan arsir

17. Seruling, Harmonika, Pianika, Sarone, Telemping merupakan jenis alat musik
- A. diatonis
 - B. pentatonis
 - C. ritmis
 - D. melodi

18. Cermati penggalan teks lagu berikut!

Bubuy bulan

Bubuy bulan sangray bentang

Panon pae

Panon pae disasate ...

Lagu daerah tersebut menggunakan tangga nada

- A. diatonis minor
- B. diatonis
- C. ultrasonic
- D. pentatonic

19. Cermati gambar berikut!

Gambar di samping adalah pola lantai

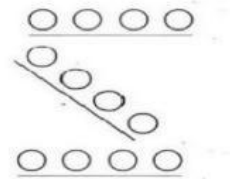
- A. vertikal
- B. horizontal
- C. melingkar
- D. melengkung



20. Cermati gambar berikut!

Pola lantai yang terdapat pada gambar di samping adalah pola

- A. horizontal
- B. diagonal
- C. segi lima
- D. zigzag



21. Cermati gambar berikut!

Fungsi dari karya seni rupa disamping adalah

- A. dekorasi
- B. keagamaan
- C. hiasan
- D. monument



22. Cermati tabel berikut!

1. Singkat dan Jelas
2. Menarik dan mencolok
3. Jujur
4. Dilakukan berulang

Pernyataan-pernyataan tersebut merupakan ciri-ciri dari

- A. Spanduk
- B. Baliho
- C. Reklame
- D. Poster

23. Cermati gambar berikut!



Gambar diatas yang termasuk reklame non komersial adalah

- A. (1)
- B. (2)
- C. (3)
- D. (4)

24. Cermati gambar berikut!



Berdasarkan sifatnya, gambar tersebut termasuk

- A. reklame layanan
- B. reklame penerangan
- C. reklame komersial
- D. reklame ajakan

25. Musim hujan sedang melanda ibu kota Jakarta. Sehingga mengakibatkan banjir diberbagai daerah. Dina mendapat tugas untuk membuat reklame bertemakan bencana banjir.

Berikut reklame yang sesuai dengan ilustrasi adalah




26. Perhatikan gambar berikut!

Kalimat iklan yang tepat untuk gambar di atas adalah

- A. Apapun makananmu, minumannya Teh Botol Kosro!
- B. Minuman pengganti ion tubuh hanya Potari Sweat!
- C. Rasakan minuman itu dengan bulir utuh dari Si Segar Florodona!
- D. Yuuk minum Floridina, rasakan kesegarannya setiap hari!



27. Perhatikan gambar di bawah ini!



Berdasarkan sifatnya, perbedaan reklame dari dua gambar di atas adalah

- A. Gambar pertama menawarkan makanan, gambar kedua menawarkan minuman
- B. Gambar pertama bersifat komersial, gambar kedua bersifat non komersial
- C. Gambar pertama memiliki warna yang menarik, gambar kedua kurang menarik
- D. Gambar pertama harganya mahal, gambar kedua harganya murah

28. Pak pak dung pak dung pak pak pak gendang nyaring ditepak

Lanjutan dari lirik lagu di atas adalah

- A. Anak ondel-ondel jejingkrakan
- B. Nyang nonton girang pada surak-surak
- C. Nyang nonton pade kebingungan
- D. Nyok kita ngarak ondel-ondel

29. Perhatikan gambar!



Jenis tangga nada pada gambar di atas adalah

- A. Tangga nada minor harmonis
- B. Tangga nada mayor melodis
- C. Tangga nada minor asli
- D. Tangga nada mayor diatonic

30. Tangga nada yang terdiri dari tujuh buah nada, dan menggunakan dua macam jarak nada disebut

- A. tangga nada diatonis
- B. tangga nada pentatonic
- C. tangga nada kromatis
- D. tangga nada aransemen

31. Ciri-ciri tangga nada

- 1. Terdiri dari 7 nada
- 2. Selalu bersemangat
- 3. Biasanya diawali dan diakhiri dengan nada La = A
- 4. Terdiri dari 8 nada

Ciri-ciri tangga nada minor terdapat pada nomor

- A. 1 dan 4
- B. 1 dan 2
- C. 2 dan 4
- D. 3 dan 4

32. Urutan jarak nada pada tangga nada diatonis mayor adalah

- A. 1-1/2-1/2-1-1-1
- B. $\frac{1}{2}$ -1/2-1-1-1-1
- C. 1-1-1/2-1-1-1/2
- D. 1-1/2-1-1-1-1/2

33. Perhatikan tabel berikut !

Nama Tarian	Asal Daerah
1. Tari Jaipong	P. Sumatera Barat
2. Tari Legong	Q. Aceh
3. Tari Indang	R. Bali
4. Tari Sedauti	S. Jawa Barat

Pasangan yang tepat nama tarian dan asal daerahnya adalah

- A. 1 – P
- B. 2 – R
- C. 3 – Q
- D. 4 – S

34. Perhatikan tabel berikut!

No.	Unsur Tari
1.	Gerak
2.	Penonton
3.	Nama tarian
4.	Busana
5.	Iringan tari
6.	Tata rias

Dari tabel tersebut yang termasuk unsur tari adalah

- A. 3, 4 dan 5
- B. 4, 5 dan 6
- C. 1, 2 dan 4
- D. 1, 3 dan 4

35. Dalam sebuah tarian terdapat pola lantai. Manfaat pola lantai adalah

- A. pengiring gerak
- B. menciptakan gerakan
- C. mempermudah gerakan
- D. memperindah gerakan

36. Perhatikan gambar berikut!

Tarian pada gambar tersebut merupakan jenis tarian

- A. berpasangan
- B. tunggal
- C. gabungan
- D. kelompok



37. Perhatikan gambar berikut!

Tarian tersebut menggunakan pola lantai

- A. melingkar
- B. diagonal
- C. vertical
- D. horizontal



38. Berdasarkan jumlah penari, tarian dapat dikelompokkan menjadi tarian tunggal, berpasangan, dan kelompok. Berikut ini yang termasuk tarian berpasangan adalah
- A. Tari Merak
 - B. Tari Jaipong
 - C. Tari Zapin
 - D. Tari Legong

39. Perhatikan tabel berikut ini!

No.	Bahan
1.	Air
2.	Tanah liat
3.	Lilin
4.	Cat
5.	Batu
6.	Kayu jati

Dari tabel tersebut yang termasuk bahan pembuat patung adalah

- A. 1, 2, dan 5
 - B. 2, 3, dan 4
 - C. 3, 5, dan 6
 - D. 4, 5, dan 6
40. Bacalah kalimat-kalimat berikut!
- 1. Sapukan cat pada patung secara merata
 - 2. Campurkan warna cat yang ingin digunakan dengan air secukupnya di dalam palet
 - 3. Aduk cat dan air hingga merata
- Urutan mewarnai patung adalah
- A. 4-3-2-1
 - B. 3-4-1-2
 - C. 2-3-1-4
 - D. 1-2-3-4