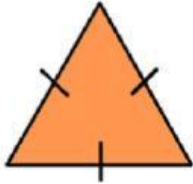


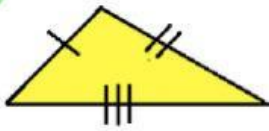

ใบงาน

เรื่อง ชนิดและสมบัติเลขยกกำลัง


คำชี้แจงที่ 1: ให้นักเรียนจับคู่ชนิดของรูปสามเหลี่ยมแบ่งตามลักษณะด้านให้ถูกต้อง



รูปสามเหลี่ยม
ด้านไม่เท่า



รูปสามเหลี่ยม
ด้านเท่า



รูปสามเหลี่ยม
หน้าจั่ว



คำชี้แจงที่ 2: ให้นักเรียนเลือกคำตอบชนิดของรูปสามเหลี่ยมแบ่งตามลักษณะมุมมา
เติมในช่องว่างให้ถูกต้อง

รูปสามเหลี่ยมมุม
แหลม

รูปสามเหลี่ยม
มุมฉาก

รูปสามเหลี่ยมมุม
ป้าน

