

LEMBAR SOAL
PENILAIAN MID SEMESTER (PTS) GENAP
JENJANG SD/MI TAHUN PELAJARAN 2023/2024

Mata Pelajaran	:	SBdP	Hari/Tanggal	:
Kelas	:	VI (Enam)	Alokasi Waktu	:

PETUNJUK UMUM

1. Tulis namamu di tempat yang tersedia pada lembar jawaban!
2. Periksa dan bacalah soal-soal dengan teliti sebelum menjawab!
3. Semua soal harus dijawab, dahulukan menjawab soal-soal yang kamu anggap paling mudah!
4. Periksa terlebih dahulu pekerjaanmu baik-baik sebelum dikumpulkan!

I. Soal Pilihan Ganda (PG)

Pilihlah jawaban yang benar dengan cara menyilang (X) huruf A, B, C, atau D pada lembar jawaban yang tersedia!

1. Perhatikan lirik lagu berikut!

Aku Cinta Lingkungan

C=do Birama 2/4 Lilly Harry Rusadi

Lagu Aku Cinta Lingkungan yang diciptakan oleh Uilly Harry Rusadi, dengan interval nada 1 - 1 - 1/2 - 1 - 1 - 1 - 1/2, pengertian interval nada yang paling tepat pada pernyataan berikut adalah...

- A. Jarak antara lagu yang satu dengan lagu yang lain
 - B. intonasi dan lirik yang tepat pada sebuah lagu
 - C. birama yang ada pada lagu tersebut
 - D. jarak antara satu nada dengan nada yang lain
2. Jenis lomba yang akan diikuti melani adalah tari kreasi daerah atau tradisional berbentuk tari tunggal yang berasal dari Jawa Barat, tari ini mengekspresikan kehidupan burung merak. Gambar tari yang akan diperagakan oleh Melani adalah....

A.



B.



C.



Benar

D.



3. Tari kreasi dibedakan menjadi tiga, yaitu tari kreasi baru, tari kreasi tunggal dan tari kreasi berpasangan. Pernyataan yang tepat tentang tari kreasi tunggal adalah....
 - A. tari klasik yang mengalami perkembangan dan penambahan dari aransemennya karena mengikuti perkembangan zaman.
 - B. tari yang diperankan oleh satu orang yang sudah profesional.
 - C. tari yang diperankan oleh dua orang
 - D. tari yang diperankan secara berkelompok
4. Perhatikan lirik lagu berikut ini!

Ibu Kita Kartini

The image shows the musical score for the song 'Ibu Kita Kartini'. It consists of four staves of music in a treble clef with a key signature of one sharp (F#) and a common time signature (C). The lyrics are written below the notes, and fingerings are indicated by numbers 1-5 above the notes. The lyrics are:

1 bu ki ta Kar ti ni Pu tri se ja ti

1 bu ki ta Kar ti ni Pen de kar bang sa

Pu tri In do ne sia, ha rum na ma nya

Pen de kar ka um nya Un tuk mer de ka

Wa hai bu ki ta Kar ti ni Pu tri yang mu li a

Sung guh be sar ci ta ci ta nya ba gi In do ne sia

Interval nada lagu tersebut disusun berdasarkan tangga nada...

- A. Do = Bes
 - B. Do = do
 - C. Do = D
 - D. Do = F
5. Lagu nasioal yang berjudul “ Ibu Kita Kartini” di ciptakan oleh...
 - A. Ibu Suud
 - B. R. C. hardjosubroto
 - C. Ibu Kartini
 - D. W. R. Supratman
 6. Tangga nada yang memiliki pola interval 1 - 1 - ½ - 1 - 1 - 1 - ½ adalah tangga nada...
 - A. Mayor
 - B. Minor
 - C. Slendro
 - D. Pelog

II. Soal Pilihan Ganda Kompleks (PGK)

Pilihlah lebih dari satu jawaban A, B, C, dan D yang kamu anggap benar!

7. Perhatikan gambar berikut ini!



Ada banyak jenis reklame. Berdasarkan tujuannya, reklame dibedakan menjadi reklame komersil dan reklame nonkomersil. Reklame pada gambar tersebut merupakan salah satu contoh reklame nonkomersil. Pernyataan yang tepat tentang reklame nonkomersil adalah....

- A. reklame yang bertujuan untuk mengajak masyarakat umum kepada hal-hal yang positif

- B. reklame yang bertujuan untuk memberikan himbauan atau pemberitahuan kepada masyarakat umum.
 - C. reklame yang bertujuan untuk menjual suatu produk dan menarik simpati konsumen
 - D. reklame yang bertujuan untuk menawarkan barang atau jasa
8. Perhatikan gambar poster berikut!



- Pesan yang ingin disampaikan dalam poster tersebut adalah....
- A. Mengajak kita untuk ikut membuat gambar bumi yang indah
 - B. Mengajak kita menjaga dan menghemat air di bumi
 - C. Berpartisipasi dalam penghijauan bumi demi masa depan
 - D. Melindungi dan menjaga hutan untuk kebaikan masa depan bumi yang kita tinggali.
9. Salah satu jenis reklame adalah reklame komersil. Tujuan dari dibuatnya reklame komersil adalah....
- A. Menyampaikan informasi kepada masyarakat.
 - B. Menarik perhatian masyarakat umum agar mau menggunakan produk yang ditampilkan dalam reklame.
 - C. Menghimbau masyarakat umum agar mau hidup sehat dan bersih
 - D. Menawarkan barang dan jasa agar mendapatkan keuntungan lebih

Amatilah pernyataan berikut untuk soal nomor 10 dan 11!

- 1) Bersifat riang gembira
 - 2) Lagu bersemangat
 - 3) Lagu bersifat sedih
 - 4) Lagu kurang bersemangat
 - 5) Melodi lagu biasanya diawali dan diakhiri nada 6 (la)
 - 6) Melodi lagu biasanya diawali dan diakhiri nada 1 (do)
10. Dari pernyataan tersebut, ciri-ciri tangga nada diatonis mayor di tunjukkan oleh nomor...
- A. 4 dan 2
 - B. 5 dan 3
 - C. 2 dan 6
 - D. 1 dan 2
11. Ciri-ciri tangga nada diatonis minor ditunjukkan oleh...
- A. 4 dan 5
 - B. 3 dan 6
 - C. 3 dan 4
 - D. 5 dan 6
12. Jenis tari daerah yang ditarikan secara berpasangan adalah...
- A. Tari Saman
 - B. Tari piring
 - C. Tari Kecak
 - D. Tari Payung

III. SOAL PILIHAN BENAR ATAU SALAH

13. Interval nada prime hanya terdengar satu nada sehingga terdengar nyaman, contohnya do saja.
- Benar
Salah

14. Perhatikan gambar berikut ini!



Tari tersebut ditampilkan atau ditarikan dengan cara berpasangan dan berkelompok.

Benar

Salah

15. Perhatikan gambar berikut!



Alat dan bahan yang terdapat pada gambar dibutuhkan ketika ingin membuat sebuah poster.

Benar

Salah

16. Salah satu teknik dalam membuat karya seni patung yang terbuat dari batu adalah dengan menggunakan teknik butsir.

Benar

Salah

17. Salah satu lagu nasional yang berjudul “Hari Merdeka” merupakan salah satu contoh lagu yang menggunakan tangga nada diatonis Minor.

Benar

Salah

18. Perhatikan gambar tari berikut!






Properti pelengkap yang digunakan dalam tari piring tersebut adalah piring.

Benar




Salah

IV. SOAL MENJODOHKAN

Pasangkan jenis-jenis reklame berikut berdasarkan tujuan dibuatnya!

19.			Komersil
20.			
21.			Non Komersil

Pasangkan jenis-jenis patung berikut berdasarkan fungsinya!

22.			Patung Dekorasi
23.			Patung Monumen
24.			Patung Pemujaan

V. ISIAN SINGKAT

25. Ada berbagai jenis reklame, dan jenis reklame yang dibuat berdasarkan jenis medianya dibagi tiga yaitu....

J : Reklame audio, visual, dan audio visual

26. Ada tiga jenis tari kreasi yaitu tari kreasi daerah/tradisional, tari kreasi modern dan tari kreasi kontemporer. Tari kreasi yang tidak memiliki aturan tertentu, baik dalam bentuk gerak ataupun aspek lainnya disebut tari....

J : Tari kreasi modern



27. _____ tari pada gambar tersebut adalah tari pendet yang berasal dari....

J : Dari Bali

28. Membutsir adalah salah satu teknik membuat patung yang berbahan dasar...

J : Lunak

29. Segala bentuk perlengkapan dan peralatan yang digunakan dalam penampilan sebuah tarian disebut...

J : Properti tari

30. Semen, pasir, gipsum adalah bahan yang digunakan dalam membuat patung dengan teknik....

J : Teknik Cor/cetak