

DOKUMEN MADRASAH
SANGAT RAHASIA



Nama :
No :

**SUMATIF TENGAH SEMESTER GENAP  
MI HIDAYATUL MUBTADIIN DEMPEL  
TAHUN PELAJARAN 2023/2024**

Mata Pelajaran : SENI RUPA	Hari / Tanggal : Jum'at, 22 Maret 2024
Kelas : IV (Empat)	Waktu : 07.30 – 09.00

**A. Ayo memilih jawaban yang tepat dengan huruf A, B, C atau D pada kotak jawab yang tersedia!**

- Komik nasional adalah komik yang berasal dari ... .
  - Jepang
  - India
  - Indonesia
  - Inggris
- Perhatikan judul-judul komik berikut!
  - (1) Si Buta dari Gua Hantu
  - (2) Panji Tengkorak
  - (3) Detektif Conan
  - (4) Naruto
 Judul komik nasional ditunjukkan nomor ... .
  - (1) dan (2)
  - (2) dan (3)
  - (1) dan (3)
  - (3) dan (4)
- Langkah pertama dalam membuat komik konvensional adalah ... .
  - Membuat scenario
  - Membuat kolom
  - Mencari ide cerita yang akan kalian jadikan komik
  - Menebalkan sketsa
- Perhatikan gambar berikut!



- Celengan tersebut dibuat dengan bahan dasar ... .
- Tanah liat
  - Plastic
  - Kertas kardus
  - Aluminium

5. Kerajinan dari hasil ciptaan kreativitas manusia yang melibatkan unsur estetika disebut ... .

a. Graviti  
b. Teater  
c. Kriya  
d. Rupa

6. Perhatikan gambar berikut!



Pernyataan yang tepat berdasarkan gambar disamping adalah ... .

- a. Manfaat seni kriya pada gambar adalah seni kriya sebagai benda bernilai estetik  
b. Benda pada gambar merupakan seni kriya sebagai mainan  
c. Benda pada gambar bukan sebagai seni kriya  
d. Mebel merupakan benda seni kriya yang bernilai sama dengan benda pada gambar diatas

7. Prinsip desain yang didalamnya terdapat ritme, harmoni, dan keselaran adalah ... .

a. Jujur  
b. Detail  
c. Awet  
d. Estetis

8. Berikut bahan yang *tidak* dapat digunakan untuk membuat layang-layang adalah ... .



9. Perhatikan poin-poin berikut!

Faktor penerbangan layang-layang di udara ditunjukkan nomor ... .

a. (1) dan (2)  
b. (2) dan (3)  
c. (1) dan (4)  
d. (3) dan (4)

(1) Pencipta layang-layang  
(2) Kualitas udara  
(3) Bentuk layang-layang  
(4) Kandungan udara

10. Layang-layang supaya lebih menarik dan berestetika maka perlu diberikan ... .
  - a. Tambahan rangka
  - b. Desain
  - c. Penutup layer dari plastic
  - d. Lubang di Tengah penutup layar
11. Toni sedang bermain layang-layang. Saat itu, tekanan angin semakin rendah. Keseimbangan layang-layang Toni semakin ... .
  - a. Kuat
  - b. Rendah
  - c. Seimbang
  - d. Tinggi
12. Layang-layang merupakan jenis karya seni ... .
  - a. Kriya
  - b. Grafik
  - c. Cetak
  - d. Lukis
13. Unsur penting dalam pembuatan komik adalah ... .
  - a. Cerita dan gambar
  - b. Gambar dan warna
  - c. Desain dan cerita
  - d. Warna dan desain
14. Perhatikan gambar berikut!



Tokoh dalam serial komik tersebut adalah ... .

- a. Gundala
  - b. Godam
  - c. Panji Tengkorak
  - d. Si Buta dari Gua Hantu
15. Perhatikan judul komik berikut!
 

(1) One Peace (2) Gundala Putra Petir (3) Vagabond (4) Jaka Sembung	Judul komik nasional ditunjukkan nomor ... . <ol style="list-style-type: none"> <li>a. (1) dan (2)</li> <li>b. (2) dan (3)</li> <li>c. (2) dan (4)</li> <li>d. (3) dan (4)</li> </ol>
--	--

**Bacalah ilustrasi berikut untuk menjawab soal nomor 16 dan 17!**

Setelah selesai belajar, Bari segera mengeluarkan komik nasional dari dalam lemari dan bergegas membacanya. Ada empat tokoh dalam komik tersebut yaitu Lina dan Arum sebagai tokoh antagonis. Tera dan Rani sebagai tokoh protagonis.

16. Komik yang dibaca Bari Berasal dari ... .
  - a. Arab
  - b. Indonesia
  - c. Jepang
  - d. Inggris



17. Pernyataan yang tepat berdasarkan ilustrasi diatas adalah ... .
- Lina adalah tokoh berwatak penyabar
  - Tokoh tritagonist dalam komik yang dibaca Bari adalah Tera
  - "Lihatlah Sepatu baruku yang mahal ini. Aku baru saja dibeli dari ayahku dari luar negeri." Kalimat tersebut merupakan ucapan dari tokoh Rani .
  - Arum adalah tokoh berwatak angkuh
18. Kegiatan menyisihkan uang dapat disebut sebagai ... .
- Mengoleksi
  - Menabung
  - Memilah
  - Bekerja

19. Amati gambar berikut!



Celengan pada gambar disamping terbuat dari bahan dasar ... .

- Tanah liat
- Kayu
- Plastik
- Besi

20. Perhatikan pasangan seni kriya dan nilai manfaatnya!

	Seni Kriya	Nilai Manfaat
(1)		Seni kriya sebagai benda bernilai fungsi
(2)		Seni kriya sebagai mainan
(3)		Seni Kriya sebagai benda bernilai fungsi
(4)		Seni kriya sebagai benda bernilai estetik





Pasangan yang tepat ditunjukkan nomor ... .

- a. (1) dan (2)
- b. (1) dan (3)
- c. (1) dan (4)
- d. (2) dan (3)

**Bacalah ilustrasi berikut untuk menjawab soal nomor 21 dan 22!**

Pak Bakri membeli oleh-oleh kendi dari tanah liat untuk bu Ani dan mobil-mobilan dari kayu untuk Iqbal

21. Seni kriya berbahan sama dengan oleh-oleh yang dibeli untuk Iqbal adalah

- a. 
- b. 
- c. 
- d. 

22. Pernyataan yang tepat berdasarkan ilustrasi tersebut adalah ... .

- a. Oleh-oleh untuk Iqbal bukan merupakan seni kriya sebagai mainan
- b. Hiasan dinding dari anyaman bambu merupakan benda bernilai estetika sama dengan oleh-oleh yang diberikan untuk Iqbal
- c. Nilai fungsi terdapat pada oleh-oleh untuk Bu Ani
- d. Ayah memberi oleh-oleh bernilai estetika kepada Iqbal


23. Berikut tempat yang boleh untuk bermain layang-layang adalah ... .

- a. Tepi Pantai
- b. Jalan raya
- c. Hutan dengan pohon lebat
- d. Gang kecil yang banyak terdapat tiang listrik

24. Aerodinamik merupakan ilmu yang mempelajari tentang ... .

- a. Arah mata angin
- b. Jenis-jenis angin
- c. Pergerakan angin
- d. Pergerakan api

25. Berikut contoh layang-layang tiga dimensi adalah ... .



26. Perhatikan pasangan jenis layang-layang berikut beserta keterangannya!

	Jenis layang-layang	Keterangan
A	Layang-layang dua dimensi	Layang-layang yang kerap ditemui dan dimainkan anak-anak
B	Layang-layang kreasi	Diterbangkan saat ada festival layang-layang
C	Layang-layang olahraga	Dapat mengatasi gejala kejang otot
D	Layang-layang tradisional	Memiliki ciri khas ekor yang berbeda di setiap daerah

- a. A, B, dan C
- b. A, B, dan D
- c. B, C, dan D
- d. A, C, dan D

27. Bacalah ilustrasi berikut!

Rano ingin membuat layang-layang dengan kerangka dua bambu halus yang disilangkan. Aksesori yang diberikan adalah ekor dari kertas tipis dan tali pengaitnya menggunakan benang.

Pernyataan yang tepat berdasarkan ilustrasi tersebut adalah ... .

- a. Layang-layang Rano akan lebih mudah terbang karena bahan-bahannya ringan
- b. Rano sebaiknya menambah aksesoris layang-layangnya supaya dapat mudah terbang
- c. Tali pengait layang-layang Rano tergolong bahan yang berat
- d. Layang-layang buatan Rano adalah layang-layang tiga dimensi



28. Berikut judul yang sesuai dengan komik bertema persahabatan adalah ... .

- a. Sahabat Sejatiku
- b. Surat dari Tuhan
- c. Sosok di Rumah Tak Berpenghuni
- d. Mimpi Domba Kecil

29. Bacalah cerita berikut dengan seksama!

Ani mendapat tugas dari guru untuk membuat komik kolase. Komik yang akan dibuat Ani bertema kepedulian terhadap lingkungan. Ia sudah mempersiapkan sumber bacaan sebagai bahan pembuatan komik kolasenya. Alat-alat pun juga sudah dipersiapkannya.

Pernyataan yang tepat berdasarkan bacaan diatas adalah ... .

- a. Judul komik yang dibuat Ani adalah “Buanglah Sampah pada Tempatnya”.
- b. Konflik dari karakter dalam komik Ani adalah seseorang yang enggan mematuhi perintah orang tua.
- c. Alat untuk memotong gambar dari sumber bacaan adalah gergaji
- d. Bahan yang dibutuhkan Ani adalah tripleks.

30. Perhatikan poin-poin berikut!

- (1) Bermanfaat
- (2) Jujur
- (3) Mewah
- (4) Agung

Prinsip-prinsip desain ditunjukkan nomor ... .

- a. (1) dan (2)
- b. (2) dan (3)
- c. (3) dan (4)
- d. (1) dan (4)

31. Hidup sederhana bukan berarti miskin atau serba kekurangan. Artinya ... .

- a. Hidup sesuai keinginan
- b. Hidup sesuai kebutuhan
- c. Hidup serba bermewahan
- d. Hidup penuh kekurangan

32. Berikut pernyataan yang tepat mengenai seni kriya adalah ... .

- a. Karya seni kriya dapat dihasilkan tanpa melibatkan tangan manusia
- b. Televisi merupakan hasil dari karya seni kriya
- c. Hasil dari pembuatan seni kriya tidak dipengaruhi oleh pembuatnya
- d. Celengan dari bambu merupakan seni kriya

33. Bermain layang-layang sebaiknya dilakukan di ... .

- a. Pinggir jalan
- b. Tanah lapang
- c. Dalam rumah
- d. Sungai

34. Sebuah garis sebagai pembatas antara adegan satu dengan adegan lainnya disebut ... .

- a. Balon teks
- b. Ruang kosong
- c. Warna
- d. Panel

35. Perhatikan pasangan unsur komik dan fungsinya berikut!

	Unsur Komik	Fungsi
(1)	Gambar	Menceritakan adegan dalam cerita
(2)	Sudut pandang	Menjelaskan watak tokoh
(3)	Ruang kosong	Memberi warna
(4)	Balon percakapan	Sebagai tempat percakapan dari tokoh

Pasangan unsur komik dan fungsinya yang tepat ditunjukkan nomor ... .

- a. (1) dan (2)
- b. (2) dan (3)
- c. (3) dan (4)
- d. (1) dan (4)