

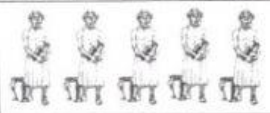



Graikija – demokratijos tėvynė

1. Išnagrinėkite pateiktą lentelę ir suskaičiuokite, kiek žmonių priklausė kiekvienai gyventojų grupei, jei viena simbolis lentelėje atitinka 10 000 žmonių. Pažymėkite, kurios žmonių grupės turėjo asmens laisvę ir rinkimų teisę. Įkelkite tinkamas sąvokas.

		Asmens laisvė	Rinkimų teisė
..... Visateisiai piliečiai			
..... Moterys ir vaikai			
..... Svetimšaliai (metekai)			
..... Vergai			

2. Palyginkite Atėnų polio ir Lietuvos Respublikos demokratinį valdymą.

Atėnai	Lietuvos Respublika
Kas galėjo dalyvauti Tautos susirinkime?	Kas renka valdžią?
Kas negalėjo dalyvauti valstybės valdyme?	Kas neturi teisės rinkti?
Kas leido įstatymus?	Kas leidžia įstatymus?
Kas galėjo tapti aukštu valstybės pareigūnu?	Kas gali tapti aukštu valstybės pareigūnu?

3. Užpildykite Atėnų valdymo schemą. Sukilnok sąvokas į reikiamas vietas.

TAUTOS SUSIRINKIMAS	Sprendė įvairius Atėnų polio valdymo klausimus laikotarpiais tarp Tautos susirinkimų.	<input type="button" value="Traukia burtus"/>
	Vadovavo Atėnų gynybai, kariuomenei, tvarkė tarptautinius reikalus.	<input type="button" value="Renka"/>
	Prižiūrėjo kultūros ir teisės reikalus.	<input type="button" value="Piliečių teismas"/>
	Sprendė teismo klausimus.	