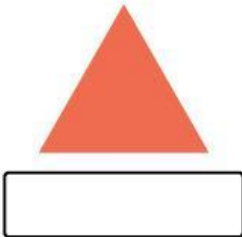


Soal Evaluasi

Fase/Kelas : Fase A/I (satu)
Mata Pelajaran : Matematika
Materi : Geometri
Semester : II (dua)
Waktu : 15 menit

Nama :
Kelas :
Hari/Tanggal :

1. Pasangkan bangun datar dengan namanya:





persegi

lingkaran

segitiga

2. Berilah tanda silang (X) pada gambar yang berbeda:



3. Pilihlah nama bangun di bawah ini dengan benar

☐

persegi panjang

☐

segitiga

☐

lingkaran

4. Lengkapilah gambar bangun di bawah ini:

