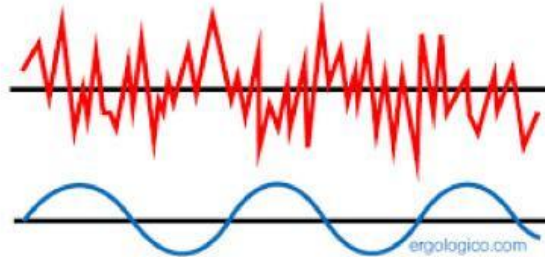


Nombre y apellidos:

Fecha:

TEMA 1. CUALIDADES DEL SONIDO

1. ¿Cuál de estas ondas representa el ruido y cuál el sonido?

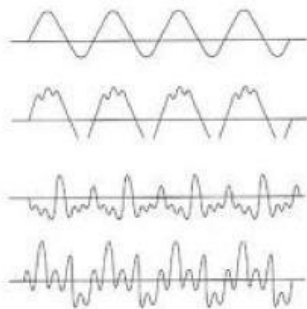


2. Escribe el nombre de la cualidad del sonido correspondiente en cada enunciado:

- Cualidad que determina si un sonido es grave o agudo. Viene dada por la frecuencia de onda.
- Cualidad que determina si un sonido es fuerte o suave. Viene dada por la amplitud de onda.
- Cualidad que determina si un sonido es corto o largo. Viene dada por el tiempo de persistencia de la onda.
- Es la cualidad característica de cada emisor y nos permite diferenciarlos. Viene dada por la forma de la onda.

3. ¿Qué cualidad se ve modificada en cada caso?

- **Cualidad 1:**



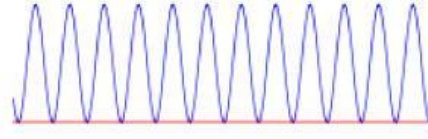
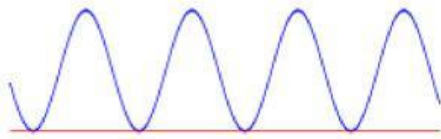
- **Cualidad 2:**



- **Cualidad 3:**



• **Cualidad 4:**



4. Completa la siguiente tabla:

Término	Abreviatura	Significado
<i>pianissimo</i>		
	<i>p</i>	
		medio suave
	<i>mf</i>	
<i>forte</i>		
		muy fuerte

5. Escribe el nombre de las siguientes notas:



6. Completa el siguiente cuadro de las figuras musicales.

Nombre	Duración
Redonda	
Blanca	
Negra	
Corchea	
Semicorchea	