



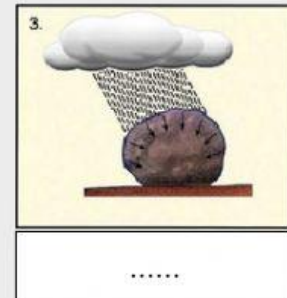
Quiz! 8

Jawablah beberapa pertanyaan berikut untuk mengetahui sejauh mana pemahaman kalian terhadap materi yang sudah dipelajari.

Nama :

Kelas :

1. Berikan keterangan nama-nama proses yang sesuai pada gambar proses pelapukan berikut!



2. Lengkapilah informasi pada tabel dibawah ini!

| Jenis | Penyebab | Contoh |
|-------------------|-----------------------------------|--------|
| | | |
| | Reaksi kimia dan pengendapan asam | |
| Pelapukan Biologi | | |

Pelapukan Kimiawi



Angin, air, perubahan temperatur, dan pembekuan

Pelapukan Mekanik

Akar tumbuhan, hewan penggali dan bakteri



Quiz! 9

Jawablah beberapa pertanyaan berikut untuk mengetahui sejauh mana pemahaman kalian terhadap materi yang sudah dipelajari.

Nama :

Kelas :

1. Cocokkan proses erosi berikut dengan gambar fenomena alam hasil erosi yang sesuai!

Abrasi

Eksarasi

Korosi

Ablasi



2. aku kehabisan pertanyaan jadi silakan nikmati video berikut tentang eksperimen erosi dari channel ruangguru.





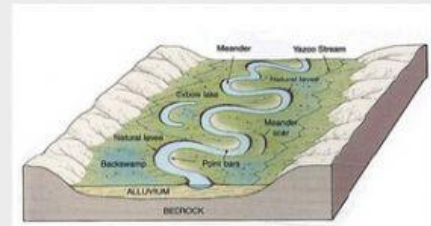

Quiz! 10

Jawablah beberapa pertanyaan berikut untuk mengetahui sejauh mana pemahaman kalian terhadap materi yang sudah dipelajari.

Nama :

Kelas :

1. Cocokkan bentuk bentang alam berikut dengan tenaga sedimen pembentuknya!



Marine

Fluvial

Aeolian

2. video lagi aja ya ges

