


## UNIDAD 7.MATEMÁTICAS 1º

### SUMAMOS SIN LLEVAR


#### Los números del 30 al 39

1. ¿Qué número es? Cuenta y completa.

 ► 

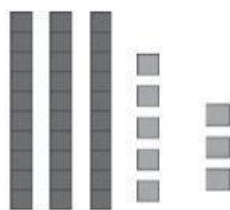
D	U

 decenas y  unidad

 ► 

D	U

 decenas y  unidades

 ► 

D	U

 decenas y  unidades

2. Completa. Después, escribe cómo se lee cada número.

►  +  = \_\_\_\_\_

►  +  = \_\_\_\_\_

►   \_\_\_\_\_

