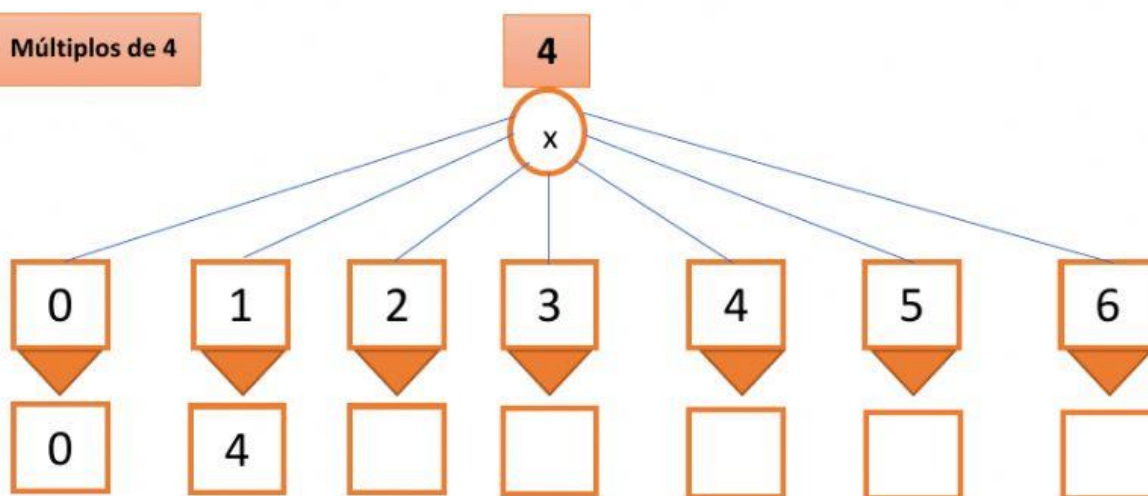


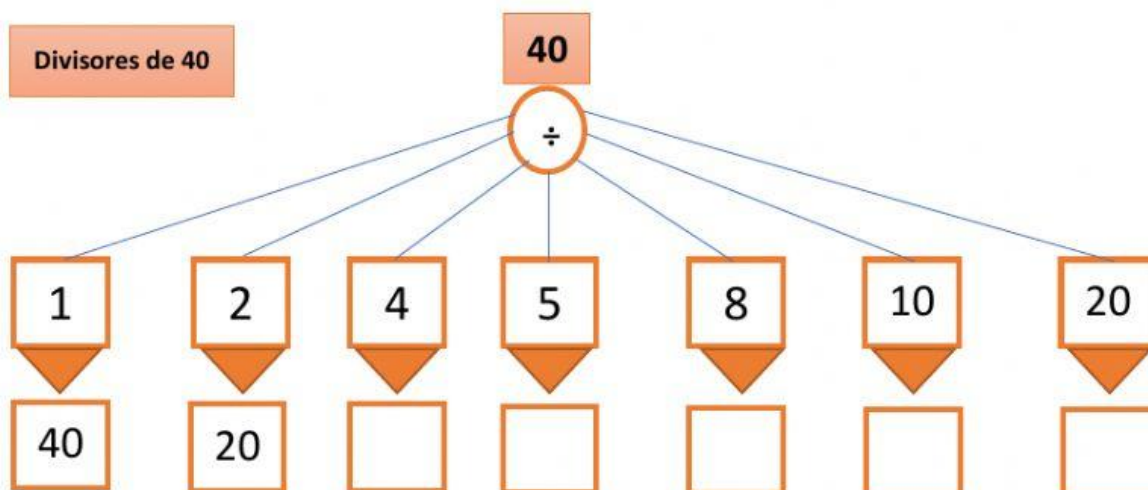
NIVEL:	Educación General Básica	ÁREA:	Matemática	ASIGNATUR A:	Matemática	AÑO LECTIVO
Grado:	Sexto	PARALELO:	A	QUIMESTRE:	Segundo	2020-2021
DOCENTE:	Mgst. Melissa Flores			FECHA: Viernes, 26 de febrero de 2021		
NOMBRE:						

1. Calcule y complete:

Múltiplos de 4

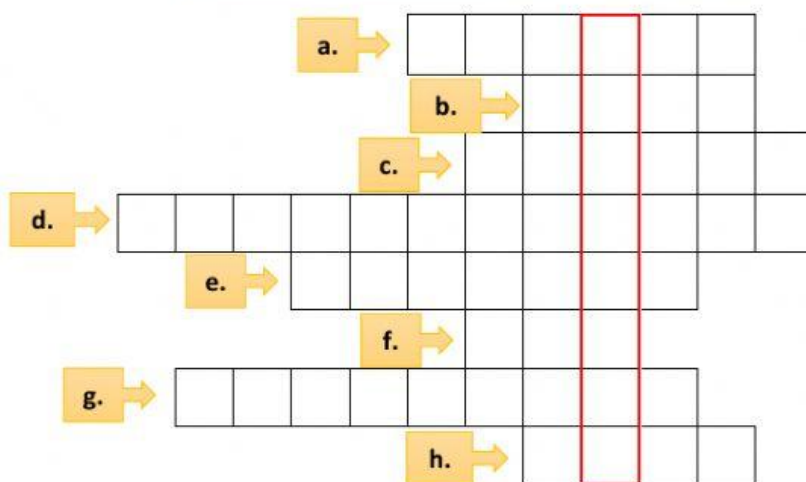


Divisores de 40



2. Escriba los números en el crucigrama y averigüe el significado de la palabra escondida:

- a. Divisor de 16 mayor que 2 y menor que 8.
- b. Divisor de 6 mayor que 2.
- c. Divisor de 30 mayor que 10.
- d. Múltiplo de 12 menor que 36.
- e. Múltiplo de 20 entre 40 y 80.
- f. Múltiplo de 100 entre 900 y 1 100.
- g. Múltiplo de 11 menor que 33.
- h. Divisor de 88 mayor que 8 y menor que 22.



Palabra escondida: _____

3. Pinte el camino siguiendo los múltiplos de 5 para que el sapo llegue a su piedra:



10	25	5	33	456	999
21	13	55	24	503	789
17	87	90	115	611	386
7	12	89	345	114	378
1012	678	234	555	984	257
101	23	98	77	1010	100

