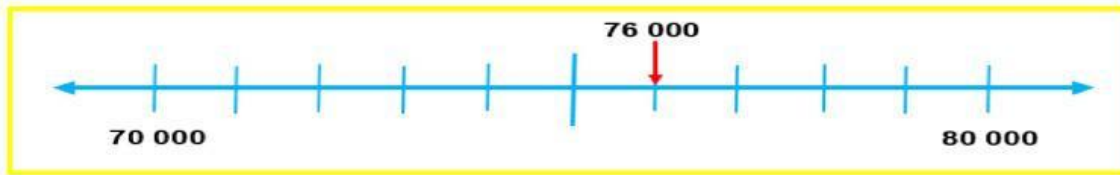


# FICHA DE REFUERZO

Ejemplo

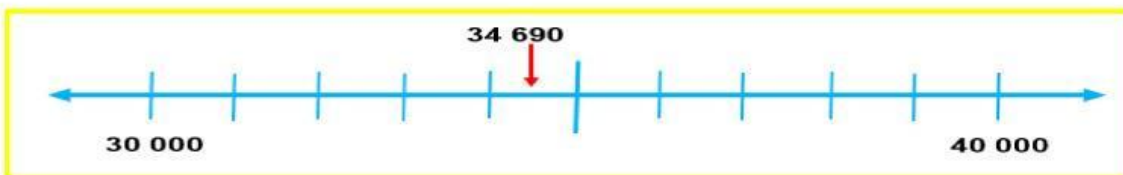


76000 está entre  y

76000 está más cerca a

76000 redondeado a la decena de millar más cercana es

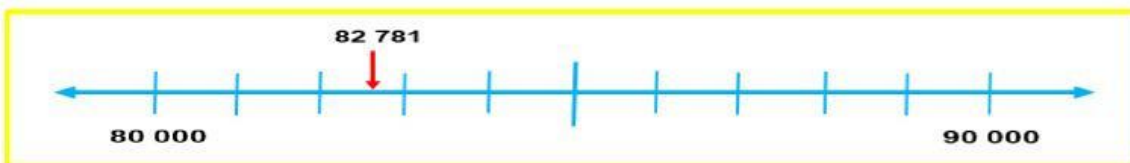
1.- Completa los números que faltan en los recuadros de color verde, y redondea cada número hasta la decena de millar.



34690 está entre  y

34690 está más cerca a

34690 redondeado a la decena de millar más cercana es



82 781 redondeado a la decena de millar más cercana es

