

UNIDAD EDUCATIVA BENJAMÍN FRANKLIN
TALLER ONLINE - 2DO QUIMESTRE



Name: _____ Date: 01 - 03 - 2021
 Subject: **Matemàtica** Teacher: Miss Ainee Olvera G.
 Course: **Segundo de Básica** Theme: **Repaso del Quimestre**

Lee las pistas y completa el crucigrama:

❄ Anterior a 15 ▷

❄ Anterior a 6 ▷

❄ Posterior a 11 ▷

❄ Anterior a 10 ▷


❄ Posterior a 6 ▷

Lee y escribe el nùmeral.


Noventa		Veintinueve	
Cincuenta y dos		Doce	
Treinta y cuatro		Setenta y tres	
Ochenta		Cuarenta y uno	

Une con líneas los numeros con su representación en el àbaco.


14



11



12



16




Completa la tabla de descomposición de números.

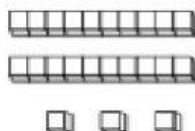
	Descomposición	Valor posicional				
<table><tr><td>D</td><td>U</td></tr><tr><td>9</td><td>6</td></tr></table>	D	U	9	6	_____ + _____	_____ decena y _____ unidades
D	U					
9	6					
<table><tr><td>D</td><td>U</td></tr><tr><td>1</td><td>5</td></tr></table>	D	U	1	5	_____ + _____	_____ decena y _____ unidades
D	U					
1	5					
<table><tr><td>D</td><td>U</td></tr><tr><td>7</td><td>9</td></tr></table>	D	U	7	9	_____ + _____	_____ decena y _____ unidades
D	U					
7	9					

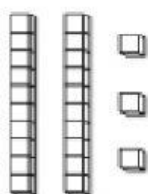
Cuenta las unidades y decenas luego escribe el número en el recuadro.



















Ordena los números de menor a mayor

87 – 61 – 20 – 52 – 45 – 10 – 3 – 39 - 77								

Ordena los números de mayor a menor.

93 – 53 – 71 – 80 – 23 – 40 – 61 – 32 - 99								