


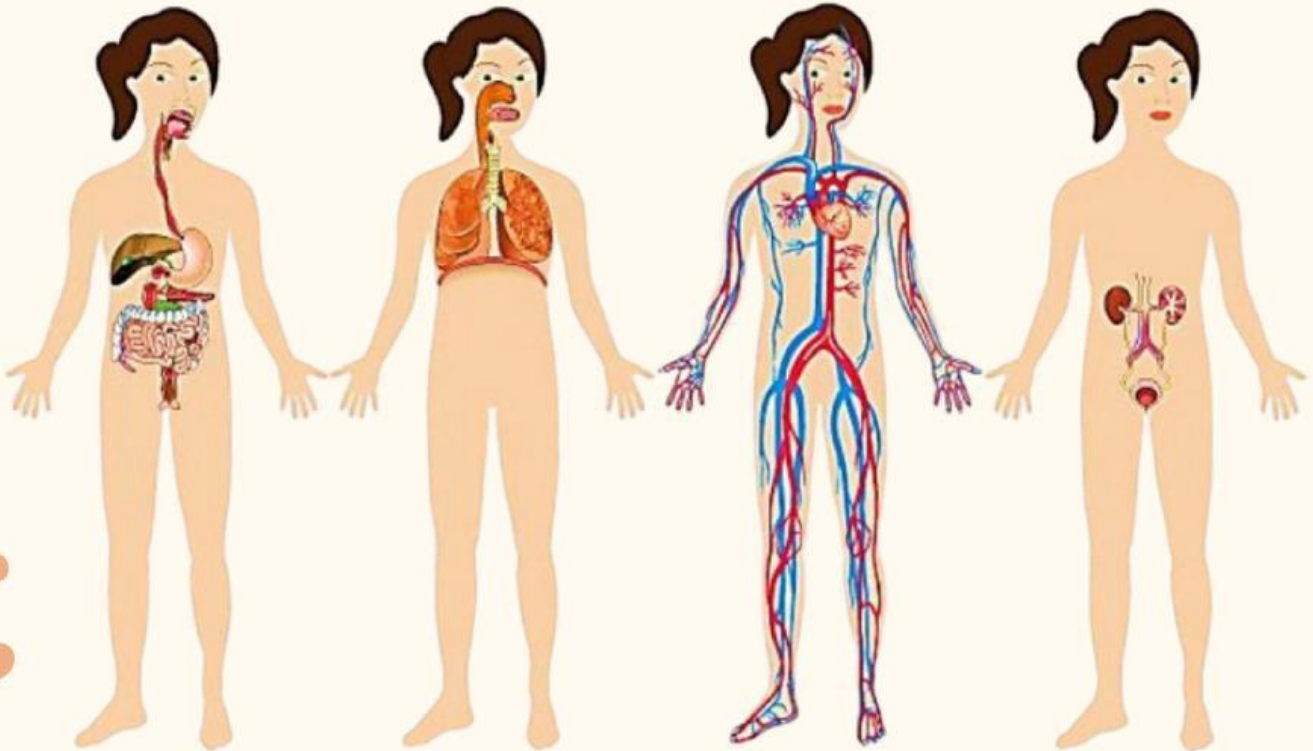
FUNCIÓN DE NUTRICIÓN



1. ¿Qué es la función de nutrición? Explica con tus palabras.

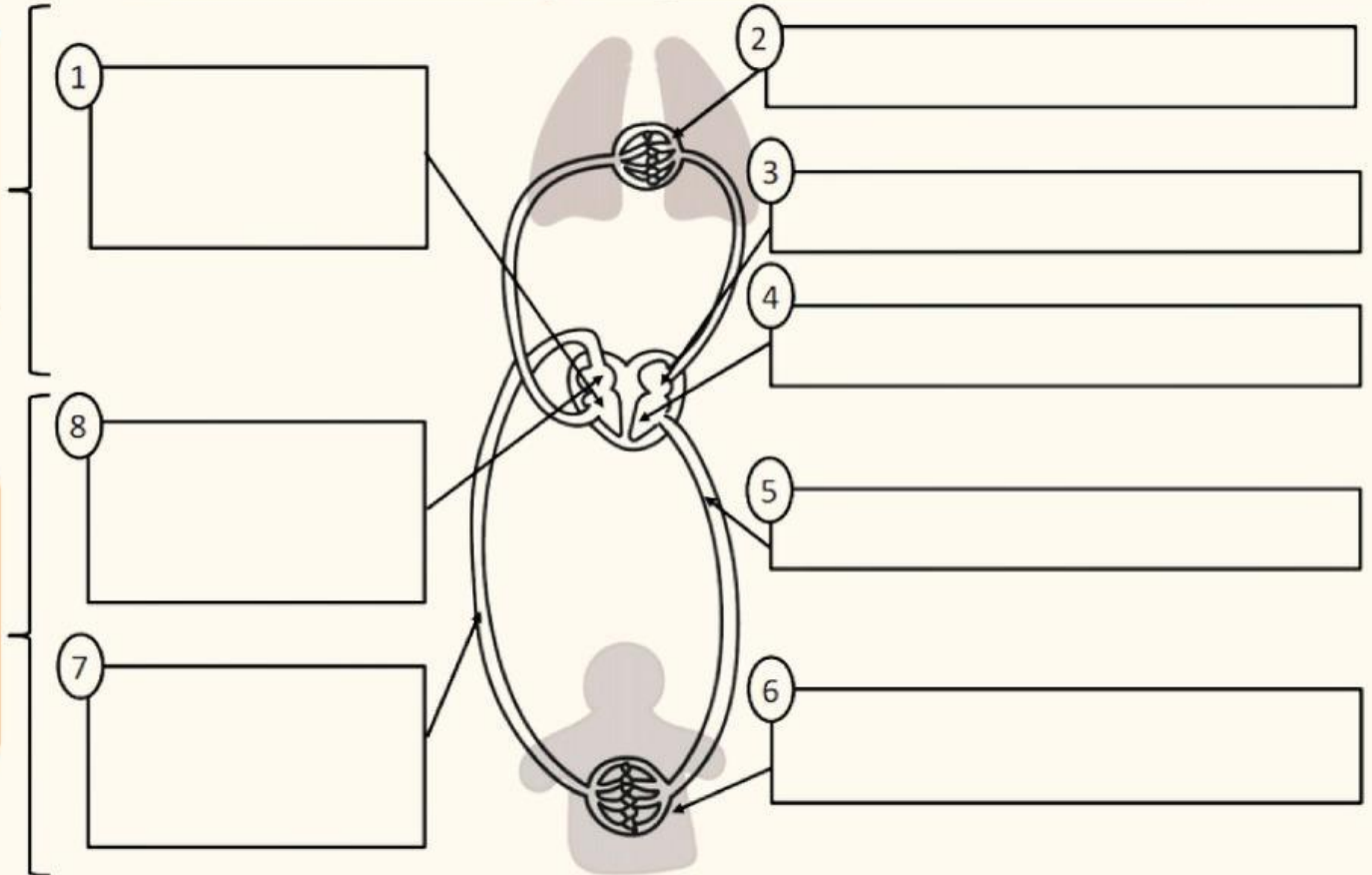


2. Escribe el nombre del aparato que corresponde según cada imagen. Después elige la definición correcta.



3. Elige la opción que corresponda a cada número para explicar la CIRCULACIÓN.

Circulación mayor y circulación menor



4. Busca en la siguiente sopa de letras 10 palabras relacionadas con el tema.

HA HA HA!

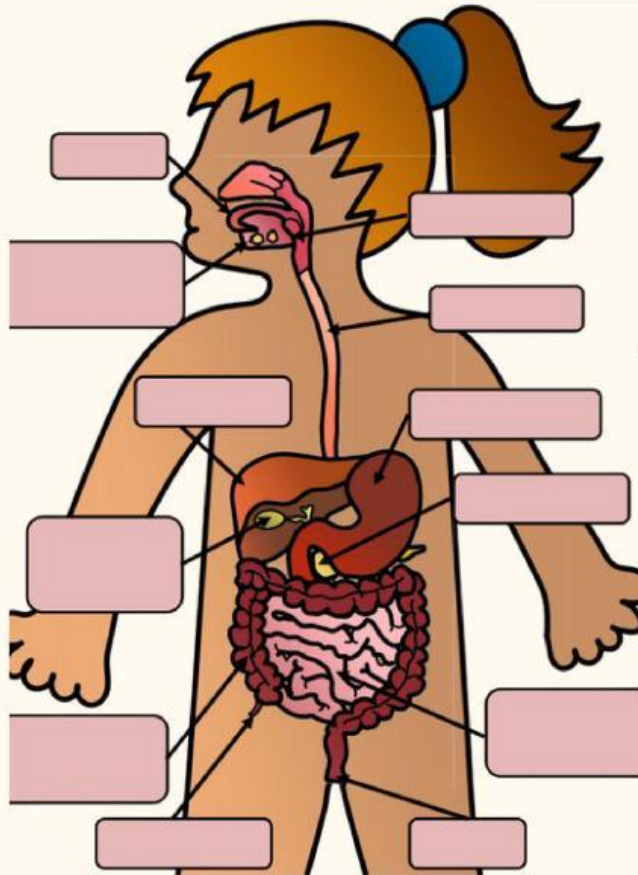


Fíjate bien que alguna palabra está muy escondida

A	V	P	S	R	Q	U	I	M	O	E
P	E	L	L	U	V	I	A	I	L	G
A	G	H	T	A	N	A	M	N	A	I
N	E	F	I	G	S	O	A	S	R	A
C	T	J	Z	G	I	M	M	P	T	T
R	I	V	T	U	A	S	A	I	E	E
E	T	I	E	F	D	D	S	R	R	U
A	O	T	S	N	I	L	O	A	I	Q
S	R	I	C	O	A	F	E	C	A	A
C	E	R	E	Z	I	L	P	I	N	L
	S	I	S	T	O	L	E	O	I	P
C	A	P	I	L	A	R	L	N	O	L

¡EXPERTOS EN NUTRICIÓN!

5. Escribe o selecciona el nombre de las partes/órganos.



¡Ponte a prueba! Elige a un compañero/a y dile que te pregunte algún órgano de los que hemos estudiado. ¿Sabrás explicarle para qué sirve?

