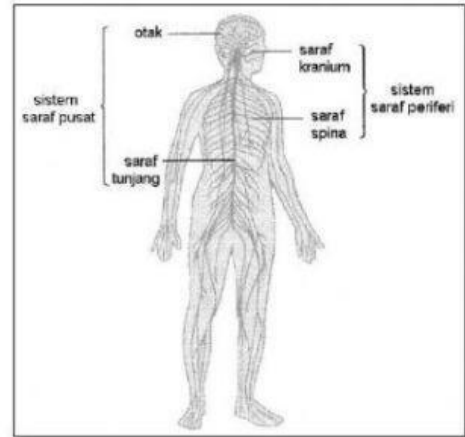
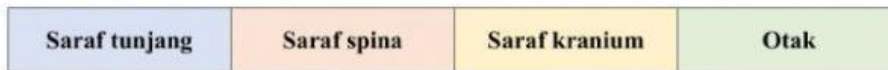


## SISTEM SARAF MANUSIA

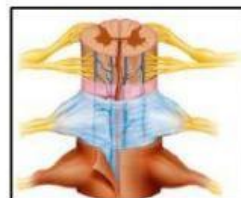


### SOALAN 1

a) Bahagian manakah yang membentuk sistem saraf pusat?

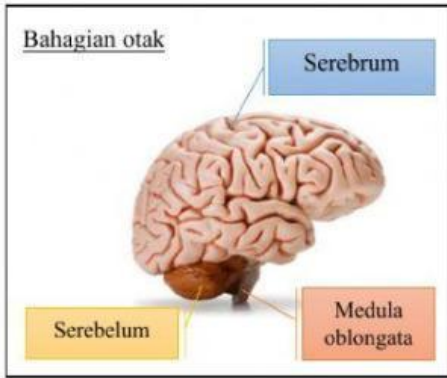


b) Bahagian manakah yang mengawal aktiviti-aktiviti dalam badan kita?



c) Bahagian manakah yang mengawal tindakan refleks?





**SOALAN 2**

Pilih jawapan yang betul bagi setiap tindakan di bawah.



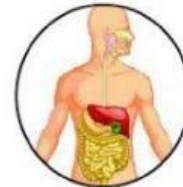
Tidur



Degupan jantung



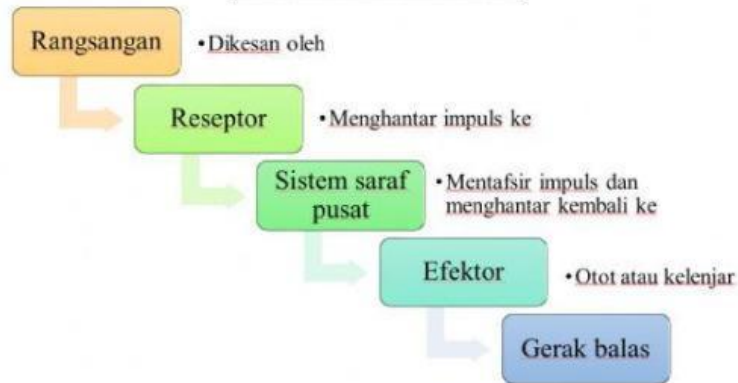
Membaca



Pencernaan makanan

a)	Jenis tindakan	Jenis tindakan	Jenis tindakan	Jenis tindakan
b)	Dikawal oleh	Dikawal oleh	Dikawal oleh	Dikawal oleh

**ARAH ALIRAN IMPULS**



**SOALAN 3**

Padankan jawapan yang betul berdasarkan situasi dalam rajah.

Otak	Berlari	Bunyi salakan anjing	Telinga	Otot kaki
Rangsangan	Reseptor	Sistem saraf pusat	Efektor	Gerak balas

