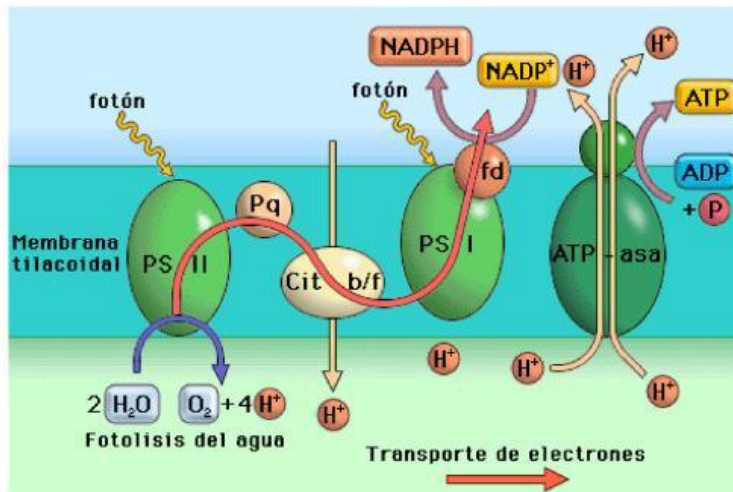


Observa los esquemas y elige la opción correcta en cada casilla (1 opción válida).



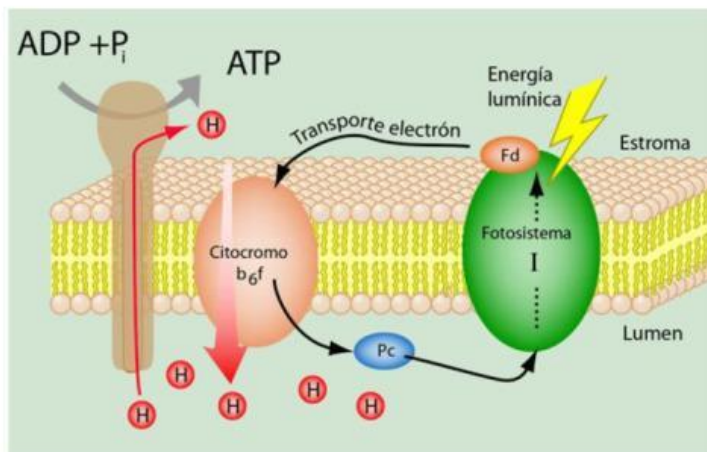
¿Qué proceso está representado?

¿Dónde ocurre mayoritariamente?

¿Qué se obtiene?

¿Qué longitud de onda emplea el fotosistema 2?

¿Cuál es el primer dador de electrones?

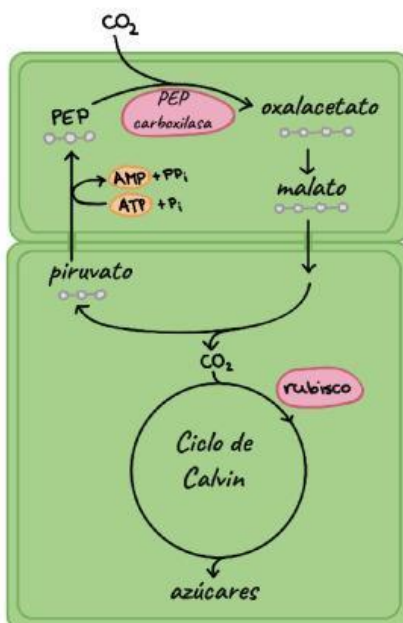


¿Qué proceso está representado?

¿Dónde tiene lugar mayoritariamente?

¿Qué se obtiene?

¿Qué longitud de onda emplea el fotosistema I?



¿Qué proceso está representado?

¿Qué utilidad tiene?

¿Qué actividad de la rubisco se evita?

¿Qué ventaja tiene frente a otras plantas?