



MADRASAH IBTIDAIYAH ASMAIYAH TERAKREDITASI A
TAHUN PELAJARAN 2023 - 2024
PENILAIAN TENGAH SEMESTER (PTS) 2

Mata Pelajaran : Tema 5 (Subtema 1 dan 2)	Nilai			
Kelas : III (Tiga)	PPKN	B. Indo	Matematika	SBdP
Hari/ Tanggal : Senin, 18 Maret 2024				
Nama :				

I. Berikan tanda silang (x) pada jawaban yang benar !

Muatan PPKN

- Andi berasal dari Madura sedangkan Yono dari Semarang mereka harus saling
a. Menghargai c. Memusuhi
b. Bertengkar d. Mengusir
- Perbedaan antar suku bangsa yang dimiliki bangsa Indonesia harus membuat kita menjadi
a. Sedih c. Marah
b. Tertawa d. Bangga
- Bekerja sama dapat bermanfaat untuk
a. Menjadi lebih pintar
b. Membina kerukunan
c. Menambah masalah
d. Menambah uang jajan
- Merapikan mainan bersama sama membuat pekerjaan menjadi.....
a. Berat c. Jauh
b. Ringan d. Lama
- Yanal dan Abu melihat kelas sangat kotor, agar dapat membereskan dengan cepat mereka harus ...
a. Bermain c. Mengotori
b. Bekerjasama d. Diam saja
- Andi dan Rudi adalah teman satu kelas. Andi beragama Islam sedangkan Rudi beragama Kristen. Bagaimana seharusnya sikap Andi dan Rudi di dalam kelas?
.....
.....
- Rani, Mira dan Sani sedang bekerja kelompok. Rani dan Mira sedang bertengkar. Bagaimana harusnya sikap Sani?
.....
.....

8. Berikan contoh bekerjasama di sekolah!

.....
.....

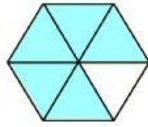
Muatan Bahasa Indonesia

- Bermain bola sebaiknya dilakukan saat cuaca ...
a. Hujan c. Berangin
b. Mendung d. Cerah
- Makanan hangat lebih baik dinikmati saat cuaca ...
a. Hujan c. Berangin
b. Mendung d. Cerah
- Saat cuaca cerah udara terasa ...
a. Dingin c. Indah
b. Panas d. Sejuk
- Perubahan cuaca yang sangat cepat disebut dengan cuaca ...
a. Cerah c. Panas
b. Mendung d. Ekstrem
- Penyakit yang biasa muncul saat cuaca ekstrem adalah ...
a. Kanker c. Flu/pilek
b. Diabetes d. Mata merah
- Mengapa kita tidak boleh sering bermain hujan hujan?
.....
.....
.....
- Sebutkan 3 cara agar terhindar dari penyakit saat cuaca ekstrem!
.....
.....
.....
- Sebutkan penyakit yang disebabkan cuaca ekstrem!
.....
.....
.....

Muatan Matematika

17. Nilai pecahan dari bagian yang berwarna **putih** adalah

- a. $\frac{1}{5}$ c. $\frac{5}{1}$
b. $\frac{1}{6}$ d. $\frac{6}{1}$



18. Santi membeli kue coklat untuk 5 temannya, ia memotong dan membaginya sama rata. Maka setiap teman Santi mendapat bagian

- a. $\frac{1}{5}$ kue c. $\frac{5}{1}$ kue
b. $\frac{1}{6}$ kue d. $\frac{6}{1}$ kue

19. $\frac{1}{4}$ $\frac{1}{5}$

Tanda yang tepat untuk mengisi titik-titik di atas adalah

- a. < c. >
b. = d. /

20. Bu Sinta memberikan kue kepada Joko, Budi dan Santika. Joko mendapat $\frac{5}{20}$ bagian, Budi mendapat $\frac{8}{20}$ dan Santika mendapat $\frac{7}{20}$ bagian. Hal itu menunjukkan bahwa

- a. Santika mendapat bagian paling banyak
b. Budi mendapat bagian paling banyak
c. Joko mendapat bagian paling banyak
d. Budi mendapat bagian paling sedikit

21. Dani mempunyai $\frac{1}{2}$ potong kue. Rasya mempunyai $\frac{1}{4}$ potong kue. Jadi kue yang dipunyai Dani adalah kue Rasya

- a. Sama dengan c. Kurang dari
b. Lebih dari d. Kurang lebih

22. Bandingkan pecahan berikut dengan menuliskan lambang <, >, atau = pada titik-titik berikut !

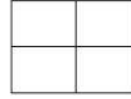
- a. $\frac{1}{4}$ $\frac{1}{6}$
b. $\frac{2}{5}$ $\frac{2}{3}$
c. $\frac{3}{8}$ $\frac{3}{10}$

23. Arsirlah gambar sesuai dengan nilai pecahan berikut:

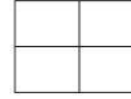
a. $\frac{1}{4}$



b. $\frac{3}{4}$



c. $\frac{2}{4}$



24. Bu Lisa membuat empat jenis kue. Kue rasa coklat di potong 10 bagian, kue rasa nanas dipotong 8 bagian, kue rasa vanila dipotong 5 bagian dan kue rasa melon dipotong 12 bagian. Urutkan kue dari yang potongan paling kecil hingga paling besar!

.....
.....

Muatan SBdP

25. Lagu Ambilkan Bulan Bu diciptakan oleh

- a. W.R Soepratman c. Pak Kasur
b. Ibu Sud d. A. T Mahmud

26. Lagu Burung Kutilang diciptakan oleh

- a. W.R Soepratman c. Pak Kasur
b. Ibu Sud d. A. T Mahmud

27. Lagu Ambilkan Bulan Bu dinyanyikan dengan tempo ...

- a. Cepat c. Sedang
b. Lambat d. Datar

28. Lagu Awan Putih diciptakan oleh

- a. W.R Soepratman c. Pak Kasur
b. Ibu Sud d. A. T Mahmud

29. Lagu Ambilkan Bulan Bu biasa dinyanyikan saat ...

- a. Pagi hari c. Siang hari
b. Malam hari d. Sore hari

30. Yang slalu bersinar di langit.

Tulislah 3 baris lagu setelah lirik di atas!

.....
.....
.....

31. Di pucuk pohon cempaka.

Tulislah 3 baris lagu setelah lirik di atas!

.....
.....
.....

32. Tuliskan 3 lagu bertempo lambat yang kamu tahu!

.....
.....
.....