

# E LKPD

## ANALISIS DATA



**Nama Anggota :**

**1.**

**2.**

**3**


**4.**



1. Berikut ini merupakan nilai ulangan harian matematika kelas VIII :

70, 65, 80, 75, 70


Mean dari data di atas adalah ..



2. Modus dari data 5,6,7,8,9,7,6,5,7 adalah ...

<input type="radio"/>	5
<input type="radio"/>	6
<input type="radio"/>	7
<input type="radio"/>	8





3. Berilah tanda centang pada data berikut yang memiliki median 6.



3, 4, 5, 6, 7



2, 3, 6, 7, 8




1, 2, 3, 4, 6



5, 6, 8, 9, 10







4 .Tariklah garis untuk soal di bawah ini ke arah pasangannya

Mean dari data 1, 2, 3, 4, 5

8

Modus dari data 8, 3, 6, 8, 2

3

5. Susunlah bilangan berikut sehingga membentuk data dengan median 5.

6

3

5

7

4



Terima Kasih

