

LKPD

LEMBAR KERJA PESERTA DIDIK

Materi : Operasi Hitung Bilangan Bulat

Untuk Kelas VI Semester 1

Nama :

Kelas :



Disusun oleh :
I Gede Rika Suardita

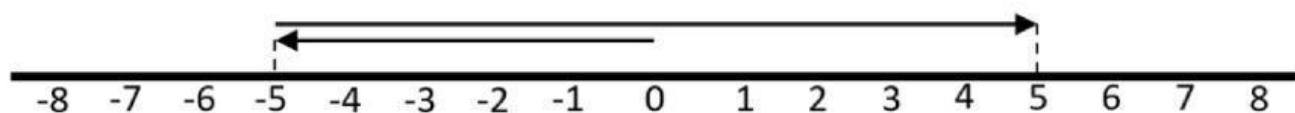
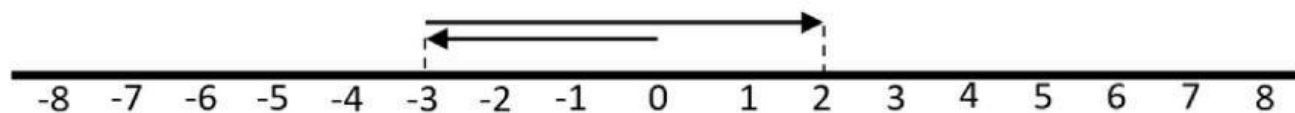
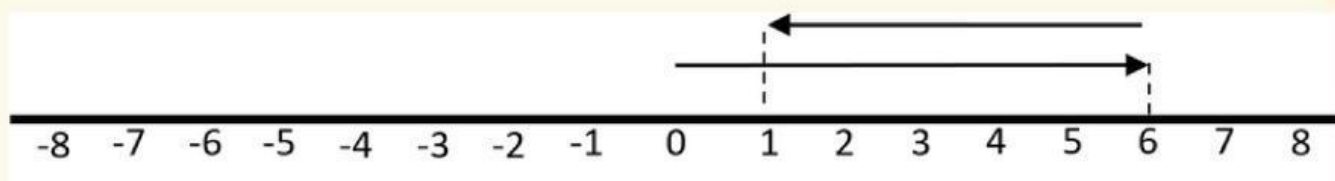
LKPD

LEMBAR KERJA PESERTA DIDIK

PETUNJUK

1. Kerjakan secara individu
2. Lakukan kegiatan sesuai dengan langkah-langkah.
3. Setelah menjawab silakan screnshort dan kirim ke WA grup sebagai bukti

1. Hasil operasi hitung yang ditunjukkan pada garis bilangan dibawah ini adalah



2. Berilah tanda centang pada jawaban yang dianggap benar!

- Hasil dari $-3 - 6 = \dots$

☐ 9

☐ -3

☐ -9

☐ 3

- Hasil dari $10 + (-6) = \dots$

☐ 6

☐ 4

☐ 16

☐ -4

3. Tarik garis dari huruf A/B/C/D ke arah kotak pasangannya

$$12 + 8 =$$

A. 20

$$-8 - (-4) =$$

B. 1

$$9 + (-5) =$$

C. -3

$$8 + (-7) =$$

D. 4

$$(-10) - (-7) =$$

E. -4