



# PRUEBA COMPRENSIVA

## Estudios Sociales y Educación Cívica


### Segundo año

Nombre de la persona  
estudiante

Sección

Centro Educativo

Fecha de aplicación



---

---

---

---

#### **INSTRUCCIONES GENERALES**

1. La resolución de la Prueba comprensiva debe llevarse a cabo de manera individual.
2. Si tiene dudas, levante la mano para ser atendido por su docente.
3. Utilice el espacio indicado para cada respuesta.
4. Revise la prueba antes de entregarla a la persona docente y asegúrese de haber dado respuesta a cada pregunta.



**Prueba comprensiva de Estudios Sociales y Educación Cívica: 2° año**

**Instrucciones específicas:** A continuación, se le presentan una serie de preguntas, con tres opciones de respuesta cada una, de las cuales solo una es correcta. Marque con una “x” la opción que contiene la respuesta correcta.

**1. Al observar la imagen adjunta puedo concluir que todas las familias**




**Fuente:** Imágenes tomadas de Internet con fines educativos.  
<https://acortar.link/wobF5B>

- a) viven en casas idénticas.
  - b) son todas iguales.
  - c) son diferentes.
- 2. Una característica de la historia personal de cada uno de nosotros es que**
- a) no existe.
  - b) todas son iguales.
  - c) se construye en la familia.



3. ¿Por qué es importante la historia personal de cada uno de nosotros?
- a) Para saber sobre quiénes somos y de dónde venimos.
  - b) Para ir fuera de nuestro país a pasear.
  - c) Para cuidar el medio ambiente.
4. La diversidad en la familia es importante tanto en las escuelas como en la casa porque nos enseña a
- a) respetar y a no discriminar.
  - b) sentirse superior a los demás.
  - c) olvidar sus costumbres y valores.
5. Ana y Juana son amigas. Ana vive en San José con su familia y Juana vive en con su familia en San Vito. ¿Cuál es una característica de ambas familias?
- a) Ambas familias son idénticas.
  - b) Las familias viven en casas iguales.
  - c) Las familias tienen costumbres diferentes.
6. El profesor Junior les tomó una foto a sus estudiantes. Al observar esta foto, se puede concluir todos los niños son diferentes lo que significa que



**Fuente:** Imágenes tomadas de Internet con fines educativos.

<https://acortar.link/wobF5B>

- a) formamos parte de familias diferentes.
- b) los niños viven en hogares iguales.
- c) cada estudiante tiene familias idénticas.



7. El siguiente dibujo representa el espacio que las personas estudiantes utilizan para



**Fuente:** Imágenes tomadas de Internet con fines educativos.  
<https://acortar.link/wobF5B>

- a) la recreación.
- b) el consumo.
- c) el estudio.

8. En el dibujo se indica, que el automóvil está



**Fuente:** Imágenes tomadas de Internet con fines educativos.  
<https://acortar.link/wobF5B>

- a) sobre el techo de la casa.
- b) delante de la casa.
- c) debajo de la casa.



9. En el dibujo adjunto se ilustra que la abeja está




**Fuente:** Imágenes tomadas de Internet con fines educativos.

<https://acortar.link/wobF5B>

- a) debajo de la flor.
- b) detrás de la flor
- c) sobre la flor.

10. En la siguiente imagen se muestran las diferentes etapas de la vida de Ana. Ordene correctamente estas etapas en una secuencia con los números 1- 2- 3- 4.

Etapas de la vida de Ana



**Fuente:** Imágenes tomadas de Internet con fines educativos.

<https://acortar.link/wobF5B>

¿Cuál es el orden correcto de las etapas de la vida de Ana?

- a) 1- 2- 3- 4.
- b) 2- 4- 1- 3.
- c) 4- 2- 1- 4.



11. Cuando Emiliano termina de almorzar, ayuda a su mamá a lavar los platos. El momento de lavar los platos es

- a) el próximo año.
- b) antes de almorzar.
- c) después de almorzar.

12. Según la imagen: Es hora de dormir para Eduardo ¿Qué momento del día es?



**Fuente:** Imágenes tomadas de Internet con fines educativos.  
<https://acortar.link/wobF5B>

- a) De día.
- b) De noche
- c) A media mañana.





13. En la imagen del calendario, ¿Cuál noción del tiempo, es representada por el número 2024?



**Fuente:** Imágenes tomadas de Internet con fines educativos.

<https://acortar.link/wobF5B>

- a) Día.
- b) Mes
- c) Año.

14. La vida del ser humano está regida por el tiempo cronológico, que se mide en horas, días, meses y años. De acuerdo con lo anterior: Un día dura

- a) 30 días.
- b) 24 horas.
- c) 12 meses.

15. Miguel cumple años en julio. Si Miguel cumplió años hoy, ¿cuántos meses tiene que esperar para volver a cumplir años?

- a) 12 días.
- b) 12 años.
- c) 12 meses.